


Name:

Datum:



Zahl unter der Lupe bis 20



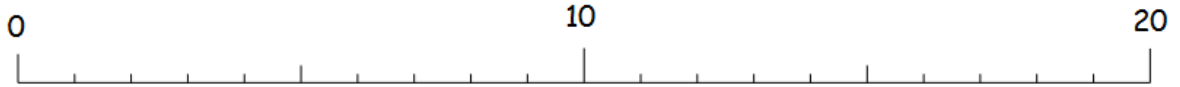
Male so viele Punkte aus.

○	○	○	○	○	○	○	○	○	○
○	○	○	○	○	○	○	○	○	○

Trage in die Stellenwerttafel ein.

Zehner	Einer

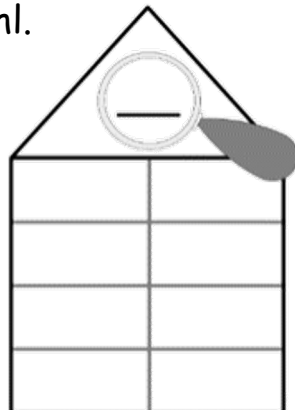
Zeige am Zahlenstrahl.



Male.



Zerlege die Zahl.



Schreibe die Aufgaben. $+$ $-$