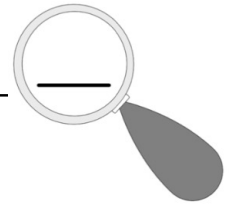


Name:

Datum:



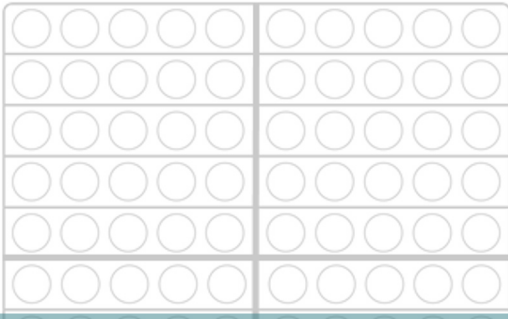
Zahl unter der Lupe bis 100



Schreibe das Zahlwort.

Schreibe die Zahl als Zahlwort auf.

Male so viele Punkte aus.



Male so viele Punkte an, wie die Zahl unter der Lupe es anzeigt. Du kannst Zehner und Fünfer auch mit einem Strich darstellen.

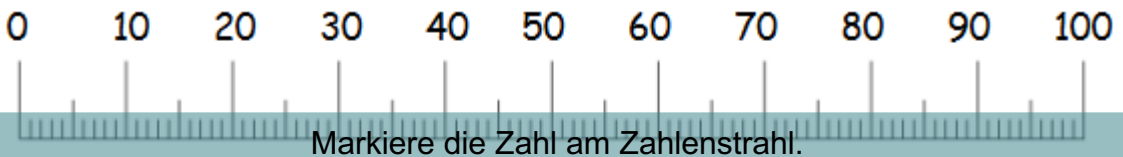
Trage in die Stellenwerttafel ein.

Wie viele Zehner und Einer hat die Zahl unter der Lupe? Hat sie auch einen Hunderter? Trage die Ziffern in die Stellenwerttafel ein.

Ergänze bis 100.

Ergänze bis 100. Du kannst die Ergänzung auch in einer anderen Farbe auf dem Hunderterfeld eintragen und die Anzahl ablesen.

Zeige am Zahlenstrahl.



Trage ein

Nachbarzehner	Vorgänger	Zahl	Nachfolger	Nachbarzehner

Trage den Vorgänger, den Nachfolger und beide Nachbarzehner ein. Du kannst die Zahlen in einer anderen Farbe am Zahlenstrahl markieren und ablesen.

Schreibe Aufgaben.



Schreibe Aufgaben, in denen die Zahl unter der Lupe vorkommt.

Lege mit Geld.

Lege die Zahl als Geldbetrag.

Findest du mehrere Möglichkeiten? Probiere einmal, die Zahl nur mit Scheinen zu legen oder möglichst wenige Münzen und Scheine zu benutzen.