

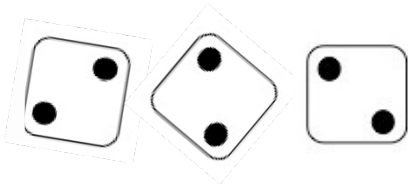
Kann ich Multiplikations-Aufgaben zu Situationen finden und umgekehrt?

Pot găsi exerciții de înmulțire în diferite situații și invers?


1 Multiplikation und Würfelbilder

Înmulțirea și fețele unui zar

- a) Schreibe zu dem Würfelbild eine passende Mal-Aufgabe auf.
Formulează un exercițiu de înmulțire ce se potrivește cu fețele zarului.




- b) Zeichne ein Würfelbild, das zur Aufgabe $2 \cdot 6 = 12$ passt.
Desenează o imagine a unui zar, ce se potrivește exercițiului $2 \cdot 6 = 12$.




2 Multiplikation in der Umwelt

Înmulțirea în mediul înconjurător

- Schreibe zu dem Schokoladen-Bild eine passende Mal-Aufgabe auf.
Formulează un exercițiu de înmulțire pentru imaginea cu ciocolată.








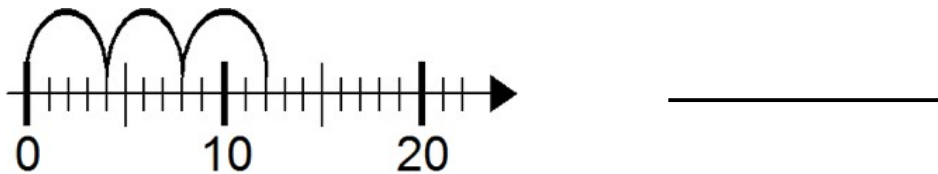
3 Multiplikation und Punktebilder
Înmulțirea și imagini cu puncte

Welche Bilder passen zu der Aufgabe $3 \cdot 4 = 12$? Kreise ein. Care imagini se potrivesc exercițiului $3 \cdot 4 = 12$? Încercuiește.



4 Multiplikation am Zahlenstrahl
Înmulțirea pe linear.

- a) Schreibe zu dem Zahlenstrahl-Bild eine passende Mal-Aufgabe auf.
Formulează un exercițiu de înmulțire ce se potrivește cu axa numerică.



- b) Zeichne zu der Mal-Aufgabe ein passendes Bild in den Zahlenstrahl.
Desenează o imagine pe axa numerică ce corespunde exercițiului de înmulțire.

