





















Geschichte Multiplikation

Zahlraum bis 100

Разумно умножение

Числа до 100

Name/ Име: _____ Datum/ Дата: _____

<p>①  Маркирай и пресметни най-напред лесната задача. Markiere und rechne zuerst die einfache Aufgabe.</p> <p>$2 \cdot 7 = \underline{\quad}$ $8 \cdot 3 = \underline{\quad}$ $3 \cdot 6 = \underline{\quad}$ $3 \cdot 7 = \underline{\quad}$ $8 \cdot 2 = \underline{\quad}$ $\underline{\quad} \cdot \underline{\quad} = \underline{\quad}$</p>	  
<p>②  Маркирай и пресметни най-напред лесната задача. Markiere und rechne zuerst die einfache Aufgabe.</p> <p>$5 \cdot 3 = \underline{\quad}$ $4 \cdot 5 = \underline{\quad}$ $6 \cdot 8 = \underline{\quad}$ $6 \cdot 3 = \underline{\quad}$ $4 \cdot 6 = \underline{\quad}$ $\underline{\quad} \cdot \underline{\quad} = \underline{\quad}$</p>	  
<p>③  Маркирай и пресметни най-напред лесната задача. Markiere und rechne zuerst die einfache Aufgabe.</p> <p>$9 \cdot 7 = \underline{\quad}$ $6 \cdot 10 = \underline{\quad}$ $4 \cdot 9 = \underline{\quad}$ $10 \cdot 7 = \underline{\quad}$ $6 \cdot 9 = \underline{\quad}$ $\underline{\quad} \cdot \underline{\quad} = \underline{\quad}$</p>	  
<p>④  Маркирай и пресметни най-напред лесната задача. Markiere und rechne zuerst die einfache Aufgabe.</p> <p>$6 \cdot 6 = \underline{\quad}$ $4 \cdot 4 = \underline{\quad}$ $9 \cdot 8 = \underline{\quad}$ $7 \cdot 6 = \underline{\quad}$ $4 \cdot 3 = \underline{\quad}$ $\underline{\quad} \cdot \underline{\quad} = \underline{\quad}$</p>	  
<p>⑤  Маркирай и пресметни най-напред лесната задача. Markiere und rechne zuerst die einfache Aufgabe.</p> <p>$2 \cdot 7 = \underline{\quad}$ $8 \cdot 2 = \underline{\quad}$ $4 \cdot 7 = \underline{\quad}$ $8 \cdot 4 = \underline{\quad}$</p>	  
<p>⑥  Маркирай и пресметни най-напред лесната задача. Markiere und rechne zuerst die einfache Aufgabe.</p> <p>$5 \cdot 8 = \underline{\quad}$ $7 \cdot 8 = \underline{\quad}$</p>	