



Zahlen darstellen im ZR 1000

Das kann ich schon!

وحدات الأرقام لل 1000
أستطيع حل هذا!


Name / التاريخ _____

Datum / الاسم _____

1 اكتب الأرقام. Schreibe die Zahlen.


<input type="text"/>	<input type="text"/>	<input type="text"/>	≡
H	Z	E	
المئات	عشرات	آحاد	

<input type="text"/>	<input type="text"/>	<input type="text"/>	<input type="text"/>	...
H	Z	E		
المئات	عشرات	آحاد		





1 ارسم الأرقام. Zeichne die Zahlbilder.

426




509



2 ما هو الرقم؟ Wie heißt die Zahl?

H	Z	E
مئات	عشرات	آحاد
..


H	Z	E
مئات	عشرات	آحاد
...		..



3 فكك إلى مئات وعشرات وآحاد. Zerlege in Hunderter, Zehner und Einer.

$$238 = \underline{\quad} + \underline{\quad} + \underline{\quad}$$

$$635 = \underline{\quad} + \underline{\quad} + \underline{\quad}$$





Zahlen darstellen im ZR 1000

Das kann ich schon!

وحدات الأرقام لل 1000
أستطيع حل هذا!

4 سجل الرقم. انظر بتمعن!
Notiere die Zahl. Schau genau!

5 H 3 Z 8 E
مئات عشرات أحاد _____

9 H 6 E 4 Z
مئات أحاد عشرات _____

4 H 2 Z 6 E
مئات عشرات أحاد _____

3 H 9 E
مئات أحاد _____

4 Z 6 H
عشرات مئات _____

8 H 10 Z
مئات عشرات _____

4 6 E
أحاد _____

8 3 Z
عشرات _____

5 7 Z
عشرات _____

