

## Kann ich Multiplikations-Aufgaben zu Situationen finden und umgekehrt?

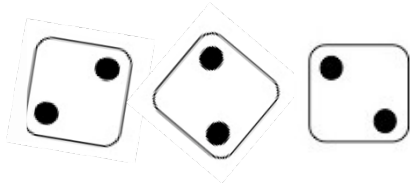
هل يمكنني إيجاد عمليات الضرب الى الحالات والعكس صحيح؟

### 1 Multiplikation und Würfelbilder

عملية الضرب وصور النرد

#### a) Schreibe zu dem Würfelbild eine passende Mal-Aufgabe auf


اكتب عملية الضرب المناسبة الى صور النرد



\_\_\_\_\_

#### b) Zeichne ein Würfelbild, das zur Aufgabe $2 \cdot 6 = 12$ passt.

ارسم الشكل المناسب للنرد، الذي يمثل عملية الضرب  $2 \cdot 6 = 12$




### 2 Multiplikation in der Umwelt

عالم عمليات الضرب


#### Schreibe zu dem Schokoladen-Bild eine passende Mal-Aufgabe auf.

اكتب عملية الضرب المناسبة الى صورة قطعة الشوكولا.



\_\_\_\_\_






3 Multiplikation und Punktebilder

عملية الضرب والصور المنقطة

Welche Bilder passen zu der Aufgabe  $3 \cdot 4 = 12$ ? Kreise ein.

ما هي الصورة المناسبة الى عملية الضرب  $3 \cdot 4 = 12$ ? حدد الإجابة الصحيحة بدائرة.

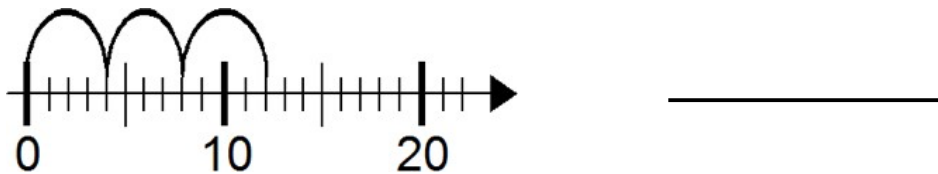


4 Multiplikation am Zahlenstrahl

عملية الضرب عند سهم خط الأرقام

a) Schreibe zu dem Zahlenstrahl-Bild eine passende Mal-Aufgabe auf.

اكتب عملية الضرب المناسبة الى سهم خط الأرقام.



b) Zeichne zu der Mal-Aufgabe ein passendes Bild in den Zahlenstrahl.

ارسم الشكل المناسب على سهم خط الأرقام الى عملية الضرب التالية.

