



Materialien: leere Plättchenstreifen, Plättchen, Aufgabenkarten

Übungsvorbereitung: Wenn mit Aufgabenkarten gespielt wird, diese mischen und verdeckt stapeln. Plättchenstreifen und Plättchen ausschneiden.

Übungsziel: Zerlegen von Zahlen am Plättchenstreifen und die passenden Aufgaben dazu finden.

Übungsverlauf: Kind A nennt eine Zerlegung oder zieht eine Aufgabenkarte.

- Kind B nennt die zerlegte Zahl, legt den passenden Plättchenstreifen, zeigt die beschriebene Zerlegung daran und nennt die passende Plusaufgabe.
- Danach wird gewechselt und Kind B nennt eine Zerlegung.

QR-Codes: Audios mit sprachlicher Formulierung.

Materialie: benzi goale, plăcuțe, cărți cu exerciții.

Pregătirea jocului: dacă se joacă cu cărțile cu exerciții, ele se amestecă și se pun într-un pachet cu fața în jos. Se taie benzi și plăcuțe.


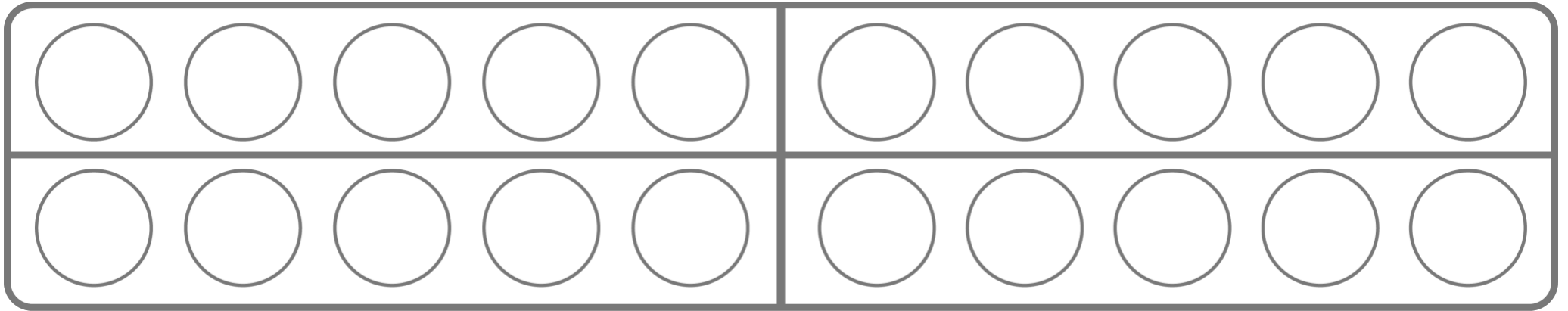
Scopul jocului: descompunerea numerelor pe benzi și potrivirea lor cu exercițiile date.

Cum se joacă: copilul A numește o descompunere sau trage o carte.

- Copilul B numește numărul descompus, pune benzile potrivite, arată descompunerea pe acestea și numește adunarea corespunzătoare.
- Apoi se schimbă și copilul B numește o descompunere.

Coduri QR: fișiere audio cu formulări.

Plättchenstreifen



Formulierungshilfen

Kind A

Ich zerlege eine Zahl.

___ Plättchen sind rot und ___ Plättchen sind blau.

Welche Zahl habe ich zerlegt?




Kind B


Die zerlegte Zahl heißt ____ .


Die passende Aufgabe zur Zerlegung heißt ____ .





Aufgabenkarten


10

 $9 + 1$


10

 $8 + 2$


10

 $7 + 3$


10

 $6 + 4$


10

 $5 + 5$


10

 $4 + 6$


10

 $3 + 7$


10

 $2 + 8$


10

 $1 + 9$


9

 $8 + 1$


9

 $7 + 2$


9

 $6 + 3$


9

 $5 + 4$


9

 $4 + 5$


9

 $3 + 6$


9

 $2 + 7$

9

 $1 + 8$


8

 $7 + 1$


8

 $6 + 2$


8

 $5 + 3$


8

 $4 + 4$





8

 $3 + 5$


8

 $2 + 6$


8

 $1 + 7$


7

 $6 + 1$


7

 $5 + 2$


7

 $4 + 3$


7

 $3 + 4$


7

 $2 + 5$


7

 $1 + 6$


6

 $5 + 1$


6

 $4 + 2$


6

 $3 + 3$


6

 $2 + 4$


6

 $1 + 5$


5

 $4 + 1$


5

 $3 + 2$

5

 $2 + 3$

5

 $1 + 4$

4

 $3 + 1$

4

 $2 + 2$

4

 $1 + 3$