

# Zahlen zerlegen

**Materialien:** leere Plättchenstreifen, Plättchen, Aufgabenkarten

**Übungsvorbereitung:** Wenn mit Aufgabenkarten gespielt wird, diese mischen und verdeckt stapeln. Plättchenstreifen und Plättchen ausschneiden.

**Übungsziel:** Zerlegen von Zahlen am Plättchenstreifen und die passenden Aufgaben dazu finden.





















**Übungsverlauf:** Kind A nennt eine Zerlegung oder zieht eine Aufgabenkarte.


- Kind B nennt die zerlegte Zahl, legt die passende Anzahl Plättchen auf den Plättchenstreifen, zeigt die beschriebene Zerlegung daran und nennt die passende Plusaufgabe.
- Danach wird gewechselt und Kind B nennt eine Zerlegung.

**QR-Codes:** Audios der Formulierungshilfen.



# Plättchenstreifen



## Formulierungshilfen

### Kind A

Ich zerlege eine Zahl.

\_\_\_ Plättchen sind rot und \_\_\_ Plättchen sind blau.

Welche Zahl habe ich zerlegt?




### Kind B


Die zerlegte Zahl heißt \_\_\_\_.


Die passende Aufgabe zur Zerlegung heißt \_\_\_\_.





## Aufgabenkarten


10  
  
 $9 + 1$


10  
  
 $8 + 2$


10  
  
 $7 + 3$


10  
  
 $6 + 4$


10  
  
 $5 + 5$


10  
  
 $4 + 6$


10  
  
 $3 + 7$


10  
  
 $2 + 8$


10  
  
 $1 + 9$


9  
  
 $8 + 1$


9  
  
 $7 + 2$


9  
  
 $6 + 3$


9  
  
 $5 + 4$


9  
  
 $4 + 5$


9  
  
 $3 + 6$


9  
  
 $2 + 7$

9  
  
 $1 + 8$


8  
  
 $7 + 1$


8  
  
 $6 + 2$


8  
  
 $5 + 3$


8  
  
 $4 + 4$





8  
  
 $3 + 5$


8  
  
 $2 + 6$


8  
  
 $1 + 7$


7  
  
 $6 + 1$


7  
  
 $5 + 2$


7  
  
 $4 + 3$


7  
  
 $3 + 4$


7  
  
 $2 + 5$


7  
  
 $1 + 6$


6  
  
 $5 + 1$


6  
  
 $4 + 2$


6  
  
 $3 + 3$


6  
  
 $2 + 4$


6  
  
 $1 + 5$


5  
  
 $4 + 1$


5  
  
 $3 + 2$

5  
  
 $2 + 3$

5  
  
 $1 + 4$

4  
  
 $3 + 1$

4  
  
 $2 + 2$

4  
  
 $1 + 3$