

Zahlen unter der Lupe bis 100

Name: _____



1) Schreibe das Zahlwort.

2) Trage in die Stellenwerttafel ein.

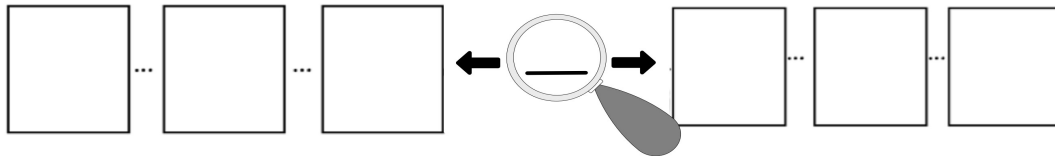
Hunderter	Zehner	Einer

3) Ergänze bis 100.

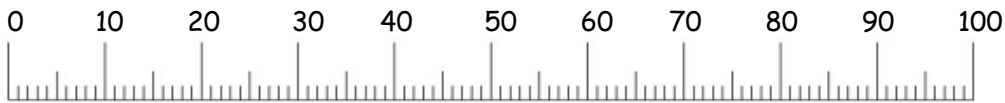
+ _____ = 100

4) Trage ein.

Nachbar ____ Nachbar ____ Vorgänger Zahl Nachfolger Nachbar ____ Nachbar ____



5) Zeige am Zahlenstrahl.



6) Entscheide.

- gerade
- ungerade

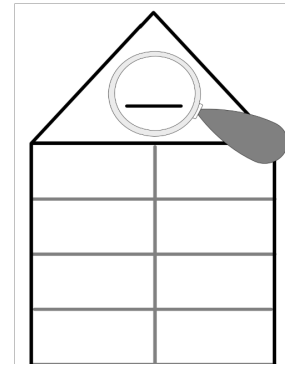
7) Trage ein.

das Doppelte: _____
die Hälfte?: _____


8) Lege mit Geld.



9) Zerlege die Zahl.



10) Notiere eigene Ideen zu der Zahl.



Kennst du jemanden, der so alt ist?
Was kannst du dir kaufen, wenn du so viele Euros hast?
Wo siehst du diese Zahl?