


Zahlen unter der Lupe bis 1000

Name: _____

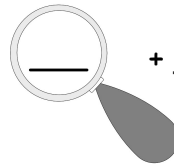


1) Schreibe das Zahlwort.

2) Trage in die Stellenwerttafel ein.

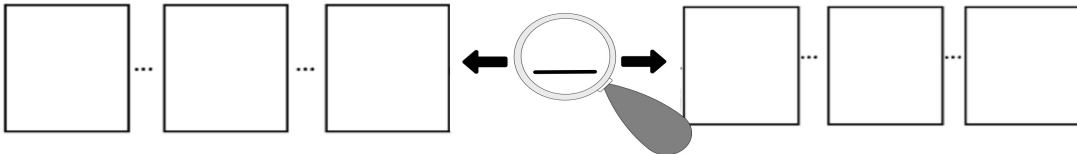
T	H	Z	E

3) Ergänze bis Tausend:

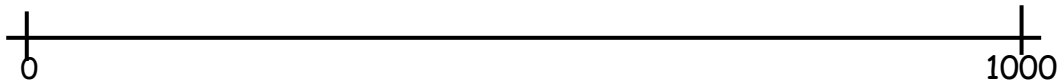
 + _____ = 1000

4) Trage ein.

Nachbar ____ Nachbar ____ Vorgänger Zahl Nachfolger Nachbar ____ Nachbar ____



5) Zeige am Zahlenstrahl.



6) Entscheide.

- gerade
- ungerade

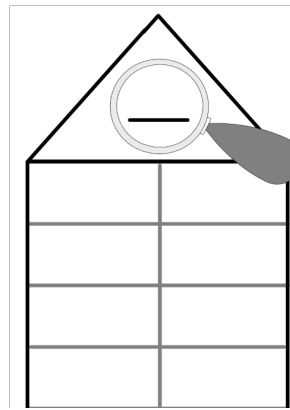
7) Trage ein.

das Doppelte: _____
die Hälfte?: _____


8) Lege mit Geld.



9) Zerlege die Zahl.



10) Notiere eigene Ideen zu der Zahl.



Kennst du jemanden, der so alt ist?
Was kannst du dir kaufen, wenn du
so viele Euros hast?
Wo siehst du diese Zahl?