
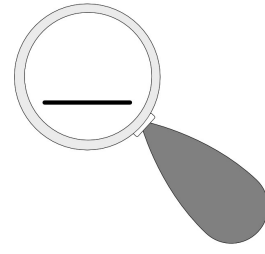


Zahlen unter der Lupe bis 10

الأرقام تحت المجهر الى 10



الاسم: _____

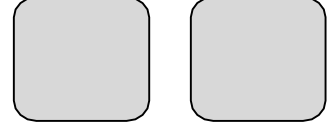
1) Male so viele Punkte aus.

لون الدوائر للعدد المطلوب



2) Zeichne ein Würfelbild

ارسم نقط للمكعب يعادل الرقم .



3) Zeige am Zahlenstrahl.

أشّر للرقم على مسطرة الأعداد



4) Lege mit Geld.

احسب باستخدام النقود

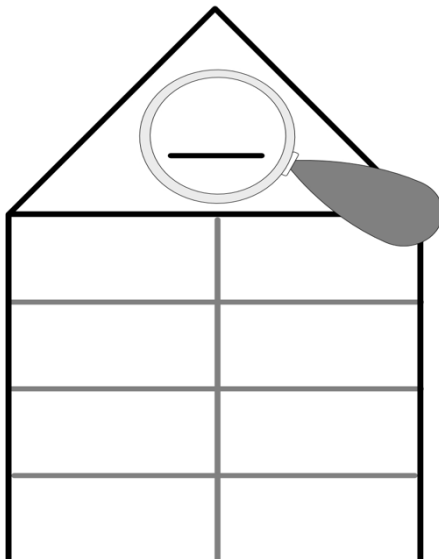


5) Male ein Zahlenbild.

ارسم الرقم

6) Zerlege die Zahl

قم بتجزئء الرقم



7) Schreibe Rechenaufgaben.

اكتب مسألة مناسبة للرقم

