

## Kann ich zu Zahlen Nachbarzahlen angeben und in Schritten zählen ?

### 1 Nachbar-Einer und Nachbar-Zehner

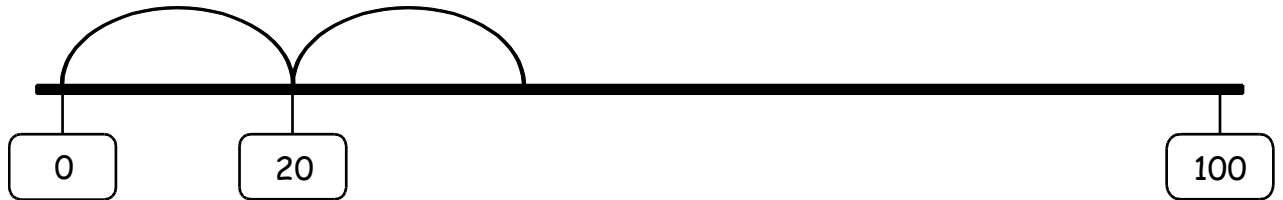
a) Finde die Nachbarzahlen. Trage ein.

Nachbar-Zehner	Nachbar-Einer (Vorgänger)	ZAHL	Nachbar-Einer (Nachfolger)	Nachbar-Zehner
40	44	45	46	50
		24		
		7		
		59		
		71		
		80		
		100		

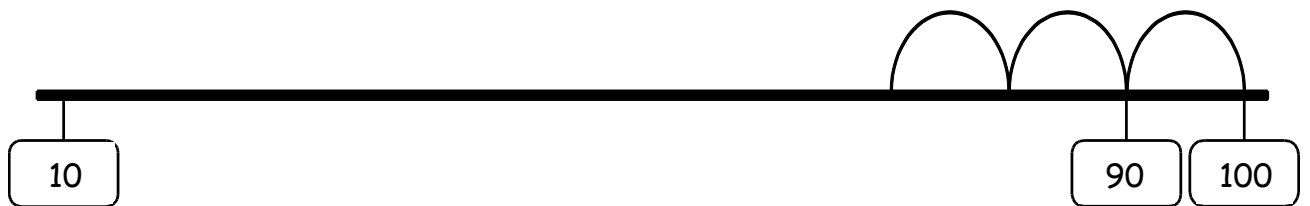


## 2 In Schritten zählen

- a) Zeichne **Zwanzigerschritte vorwärts** und schreibe die Zahlen bis 100 auf.

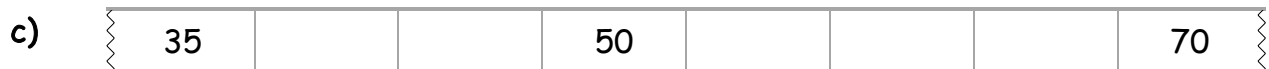


- b) Zeichne **Zehnerschritte rückwärts** und schreibe die Zahlen auf.



## 3 Zahlenreihen

Ergänze die Zahlenreihen.



- d) In welchen Schritten wurde hier gezählt ?



Es wurde in \_\_\_\_\_ - Schritten gezählt.

