



Subtraktion verstehen

Zahlraum bis 20

Name: _____

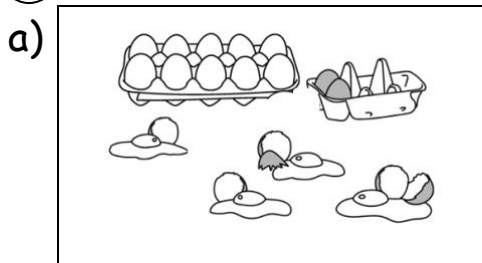
Datum: _____

① Höre. Rechne. Male.

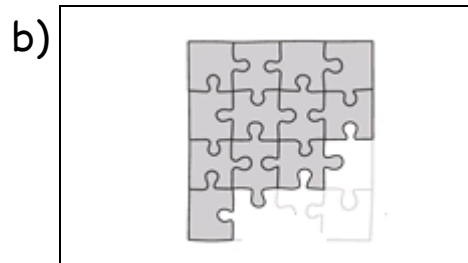
Anna hat 11 Bälle.
Tom hat 6 Bälle.
Wie viele Bälle hat Anna
mehr als Tom?



② Rechne.



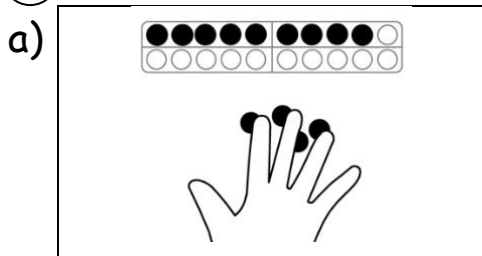
$$\underline{\quad} - \underline{\quad} = \underline{\quad}$$



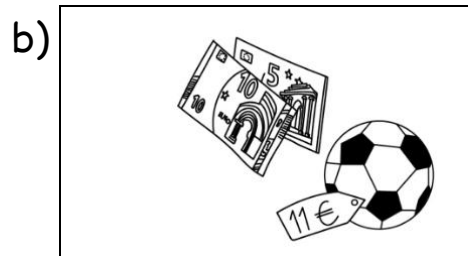
$$\underline{\quad} + \underline{\quad} = \underline{\quad}$$



③ Rechne.



$$\underline{\quad} - \underline{\quad} = \underline{\quad}$$



$$\underline{\quad} - \underline{\quad} = \underline{\quad}$$



④ Male ein Bild zu der Minusaufgabe.



$$8 - 3 = \underline{\quad}$$



$$16 - 7 = \underline{\quad}$$

