


FÖRDERUNG
DIAGNOSE
MATHEMATIK

Name: _____

Klasse: _____

Datum: _____

Welche Malaufgabe passt?



$$\underline{\quad} \cdot \underline{\quad} = \underline{\quad}$$

Male ein Bild zur Malaufgabe.



$$4 \cdot 3 = 12$$

Schreibe die Malaufgabe.

Luca holt Apfelsaft
aus dem Keller.


Er trägt immer zwei Flaschen
und geht viermal in den Keller.

$$\underline{\quad} \cdot \underline{\quad} = \underline{\quad}$$


Schreibe die Malaufgabe.



$$\underline{\quad} \cdot \underline{\quad} = \underline{\quad}$$



$$\underline{\quad} \cdot \underline{\quad} = \underline{\quad}$$



$$\underline{\quad} \cdot \underline{\quad} = \underline{\quad}$$

Zeichne das Punktebild.



$$4 \cdot 3 = 12$$



$$3 \cdot 2 = 6$$

Schreibe die Malaufgabe.



$$\underline{\quad} \cdot \underline{\quad} = \underline{\quad}$$

Zeichne die Malaufgabe an der Punktereihe ein.



$$6 \cdot 5 = 30$$

Finde noch eine passende Aufgabe. Löse die Aufgaben.

$$5 \cdot 7 = 35$$

$$6 \cdot 7 = \underline{\quad}$$

$$\underline{\quad} \cdot \underline{\quad} = \underline{\quad}$$

$$3 \cdot 7 = 21$$

$$3 \cdot 8 = \underline{\quad}$$

$$\underline{\quad} \cdot \underline{\quad} = \underline{\quad}$$

Löse die Aufgaben.

$1 \cdot 5 = \underline{\quad}$

$5 \cdot 6 = \underline{\quad}$

$7 \cdot 10 = \underline{\quad}$

$2 \cdot 8 = \underline{\quad}$

$5 \cdot 7 = \underline{\quad}$

$9 \cdot 2 = \underline{\quad}$

$3 \cdot 3 = \underline{\quad}$

$10 \cdot 8 = \underline{\quad}$

*Schreibe Malaufgaben, die du schon rechnen kannst. Löse die Aufgaben.