

FÖRDERUNG  
DIAGNOSE  
MATHEMATIK


Name: \_\_\_\_\_

Klasse: \_\_\_\_\_

Datum: \_\_\_\_\_

Welche Geteiltaufgabe passt?

Wie viele Dreiertürme kannst du bauen?



$$\underline{\quad} : \underline{\quad} = \underline{\quad}$$

Schreibe die Geteilt Aufgabe.






Im Sportunterricht sind 20 Kinder.

Immer 5 Kinder sind in einer Gruppe.

Wie viele Gruppen gibt es?

$$\underline{\quad} : \underline{\quad} = \underline{\quad}$$

Welche Bilder passen zur Aufgabe  $12 : 4 = 3$  ? Kreuze an.



Schreibe eine passende Geteilt Aufgabe.



$$\underline{\quad} : \underline{\quad} = \underline{\quad}$$

Zeichne die Geteilt Aufgabe an der Punktereihe ein.



$$20 : 5 = 4$$

Löse die Aufgaben.

$16 : 4 = \underline{\quad}$

$35 : 5 = \underline{\quad}$

$20 : 5 = \underline{\quad}$

$36 : 9 = \underline{\quad}$


$56 : 7 = \underline{\quad}$

$18 : 2 = \underline{\quad}$

$12 : 3 = \underline{\quad}$

$80 : 10 = \underline{\quad}$

Schreibe zwei Malaufgaben und zwei Geteiltaufgaben.



$$\underline{\quad} \cdot \underline{\quad} = \underline{\quad}$$

$$\underline{\quad} \cdot \underline{\quad} = \underline{\quad}$$

$$\underline{\quad} : \underline{\quad} = \underline{\quad}$$

$$\underline{\quad} : \underline{\quad} = \underline{\quad}$$

\*Schreibe Geteiltaufgaben, die du schon rechnen kannst. Löse die Aufgaben.