


FÖRDERUNG
DIAGNOSE
MATHEMATIK

Name: _____

Klasse: _____

Datum: _____

Welche Plusaufgabe passt?



$$\underline{\quad} + \underline{\quad} = \underline{\quad}$$

Male ein Bild zur Plusaufgabe.



$$4 + 2 = 6$$

Schreibe die Plusaufgabe.


Anna hat 2 Stifte.

Tom hat 6 Stifte.

Wie viele Stifte haben
sie zusammen?

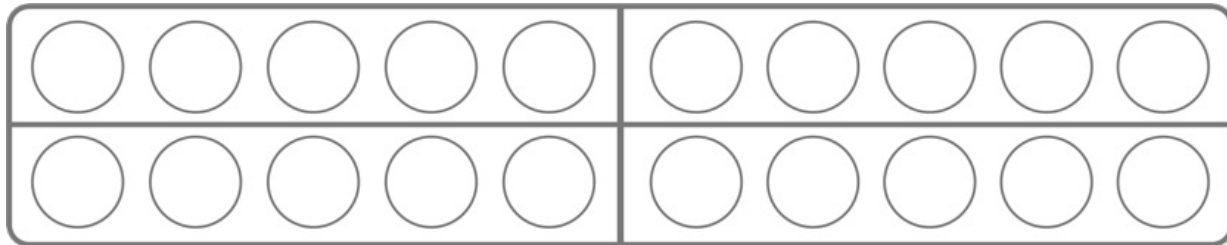
$$\underline{\quad} + \underline{\quad} = \underline{\quad}$$

Schreibe die Plusaufgabe.



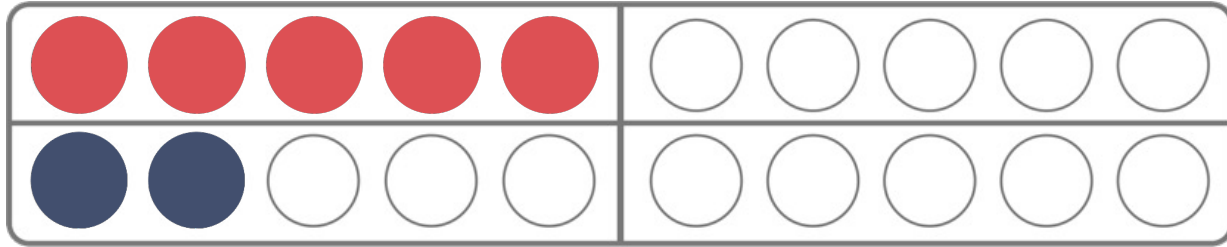
$$\underline{\quad} + \underline{\quad} = \underline{\quad}$$

Zeichne die Plusaufgabe.



$$9 + 3 = \underline{\quad}$$

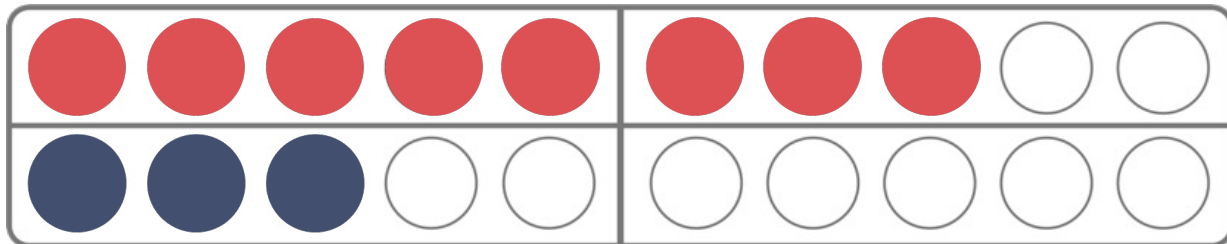
Finde noch eine Aufgabe.



$$5 + 2 = 7$$

$$\underline{\quad} + \underline{\quad} = \underline{\quad}$$

Finde zwei Aufgaben.



$$\underline{\quad} + \underline{\quad} = \underline{\quad}$$

$$\underline{\quad} + \underline{\quad} = \underline{\quad}$$

Löse. Finde noch eine passende Aufgabe.

$$5 + 5 = 10$$

$$5 + 7 = \underline{\quad}$$

$$\underline{\quad} + \underline{\quad} = \underline{\quad}$$

$$3 + 7 = 10$$

$$2 + 8 = \underline{\quad}$$

$$\underline{\quad} + \underline{\quad} = \underline{\quad}$$

Löse die Aufgaben. Kreise die einfachen Aufgaben ein.

$4 + 1 = \underline{\quad}$

$6 + 5 = \underline{\quad}$

$7 + 10 = \underline{\quad}$

$7 + 7 = \underline{\quad}$

$3 + 3 = \underline{\quad}$

$6 + 4 = \underline{\quad}$

$9 + 3 = \underline{\quad}$

$5 + 8 = \underline{\quad}$

*Schreibe Plusaufgaben, die du schon rechnen kannst. Löse die Aufgaben.