




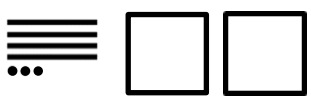
Orientierung im Zahlraum bis 1000

Das kann ich schon!

Name: _____

Datum: _____

① Fülle die leeren Spalten.

Würfelbild	Stellenwerttafel	Zahlsymbol						
	<table border="1"><tr><td>H</td><td>Z</td><td>E</td></tr><tr><td></td><td></td><td></td></tr></table>	H	Z	E				
H	Z	E						
	<table border="1"><tr><td>H</td><td>Z</td><td>E</td></tr><tr><td></td><td></td><td></td></tr></table>	H	Z	E				204
H	Z	E						
	<table border="1"><tr><td>H</td><td>Z</td><td>E</td></tr><tr><td></td><td></td><td></td></tr></table>	H	Z	E				
H	Z	E						
	<table border="1"><tr><td>H</td><td>Z</td><td>E</td></tr><tr><td>2</td><td>1</td><td>13</td></tr></table>	H	Z	E	2	1	13	
H	Z	E						
2	1	13						
	<table border="1"><tr><td>H</td><td>Z</td><td>E</td></tr><tr><td>1</td><td></td><td>5</td></tr></table>	H	Z	E	1		5	
H	Z	E						
1		5						
	<table border="1"><tr><td>H</td><td>Z</td><td>E</td></tr><tr><td></td><td>14</td><td>11</td></tr></table>	H	Z	E		14	11	
H	Z	E						
	14	11						



② Zerlege in Hunderter, Zehner und Einer.

$$527 = \underline{500 + 20 + 7}$$

$$107 = \underline{\hspace{2cm}}$$


$$314 = \underline{\hspace{2cm}}$$

$$480 = \underline{\hspace{2cm}}$$

$$692 = \underline{\hspace{2cm}}$$

$$299 = \underline{\hspace{2cm}}$$

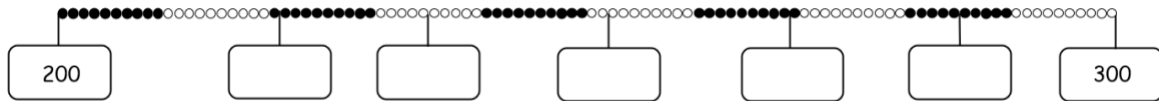




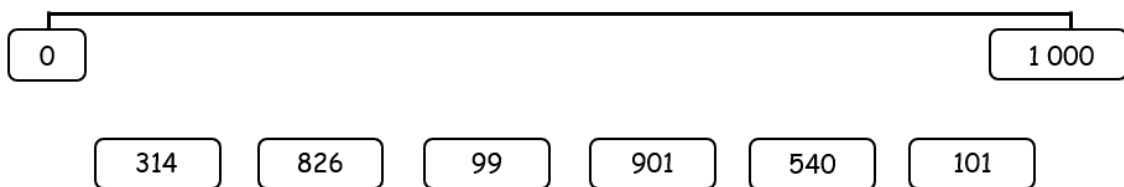
Orientierung im Zahlraum bis 1000

Das kann ich schon!

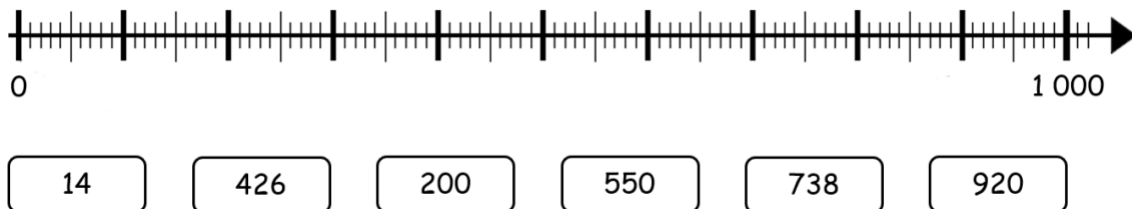
③ a) Trage die markierten Zahlen ein.



b) Ungefähr wo stehen die Zahlen am Rechenstrich? Verbinde.



c) Welche Zahlen kannst du am Zahlenstrahl markieren? Verbinde.



④ Bestimme Nachbar-Hunderter (NH), Nachbar-Zehner (NZ) und Nachbar-Einer (NE).

NH	NZ	NE	Zahl	NE	NZ	NH
			423			
			199			
			601			

