

Orientierung im Zahlraum

Zahlraum bis 1 000 000

Name: _____

Datum: _____

① Fülle die leeren Spalten.

Stellenwerttafel						Zahlsymbol
HT	ZT	T	H	Z	E	
		3	9	5		
HT	ZT	T	H	Z	E	
						280 106
HT	ZT	T	H	Z	E	
1	6	14	1	23	2	
HT	ZT	T	H	Z	E	
	8		28			
HT	ZT	T	H	Z	E	
						900 375




② Zerlege in die Stellenwerte.

$$805\,210 = 800\,000 + 5\,000 + 200 + 10$$

$$14\,900 =$$

$$601\,072 =$$

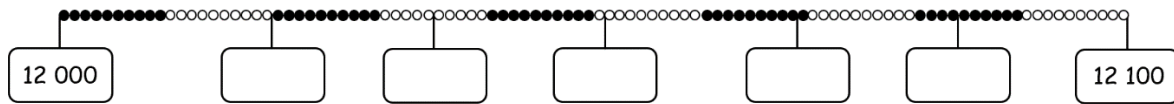




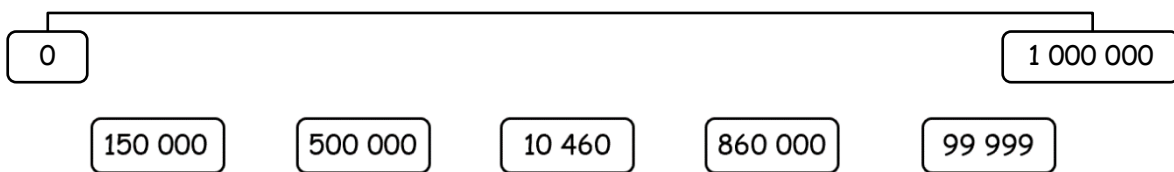
Orientierung im Zahlraum

Zahlraum bis 1 000 000

③ a) Trage die markierten Zahlen ein.

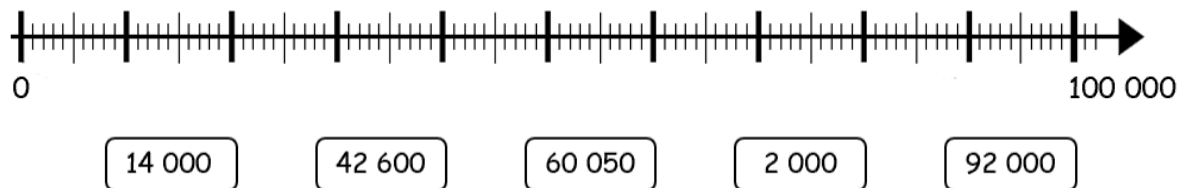


b) Ungefähr wo stehen die Zahlen am Rechenstrich? Verbinde.



c)

Welche Zahlen kannst du am Zahlenstrahl markieren? Verbinde.



④ Bestimme erst die größeren, dann die kleineren Nachbar-Zahlen.

Nachbar-Einer (NE), Nachbar-Zehner (NZ), Nachbar-Hunderter (NH),
Nachbar-Tausender (NT), Nachbar-Zehntausender (NZT), Nachbar-Hunderttausender (NHT)

Zahl	NE	NZ	NH	NT	NZT	NHT
111 799						
7 090						

NHT	NZT	NT	NH	NZ	NE	Zahl
						107 001
						65 100

