



# Bald lernen wir Mal und Geteilt!



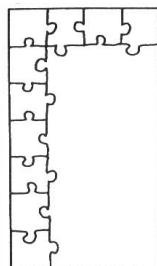
Aufgabe	Hier ist Platz für deine Lösung
 <p>Wie viele Fächer hat das Regal?</p>	
 <p>Wie viele kleine Fenster sind es insgesamt?</p>	
 <p>Wie viele Mars-Riegel sind es insgesamt?</p>	
 <p>3 Kinder. Wie viele Mars-Riegel bekommt jedes Kind?</p>	



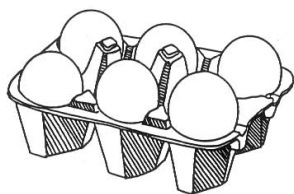
Wie viele Kaugummis sind es insgesamt?



5 Kinder. Wie viele Kaugummis bekommt jedes Kind?



Wie viele Teile hat das fertige Puzzle?




18 Eier in 6er-Schachteln

18 Eier. Lege die 18 Eier in 6er-Schachteln. Wie viele Schachteln brauchst du?



9 Kinder. Wie viele Schokoladen-  
Stückchen bekommt jedes Kind?



Welche Aufgaben kennst du schon?

$4 \cdot 4 =$	$18 : 6 =$
$5 \cdot 5 =$	$27 : 9 =$
$4 \cdot 3 =$	$12 : 3 =$
$7 \cdot 4 =$	$20 : 5 =$
$3 \cdot 8 =$	$10 : 2 =$