
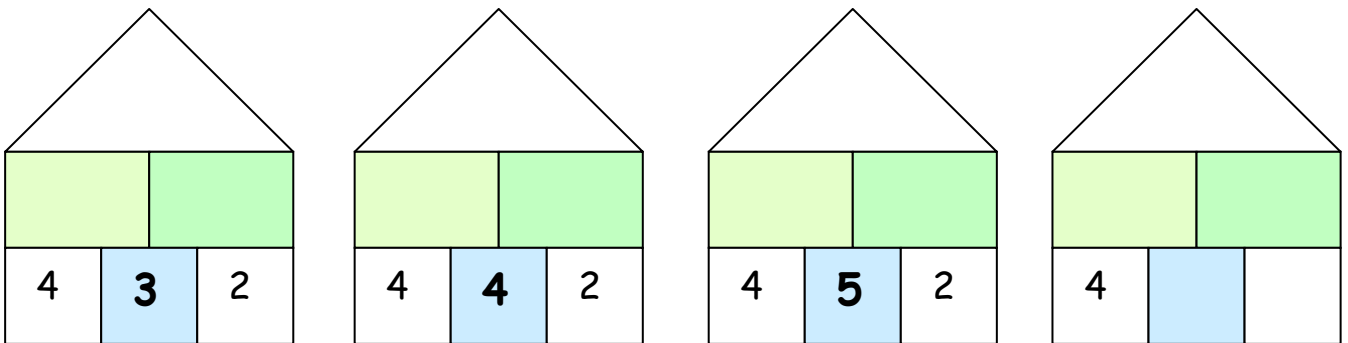


• **Forscherauftrag 4:**



Was passiert mit der **Dachzahl**, wenn die **Mittelzahl im Keller** immer um 1 größer wird?



Meine Entdeckung:

Die Dachzahl _____

***Das ist so, weil _____




Mein Tipp: Sieh dir die **Zahlen in der Wohnung** an.

Um wie viel wird die **linke** Wohnungszahl immer größer?

Um wie viel wird die **rechte** Wohnungszahl immer größer?

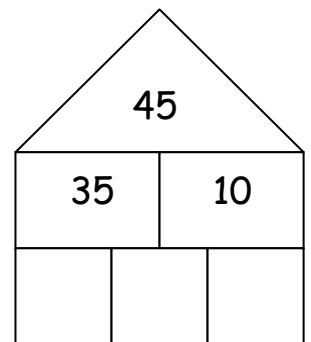
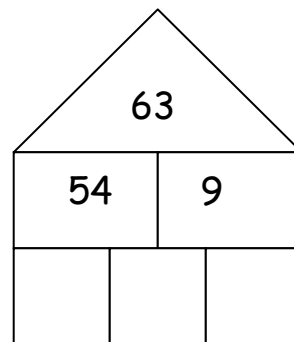
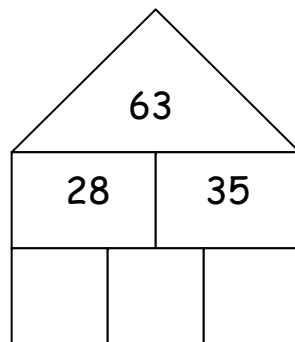
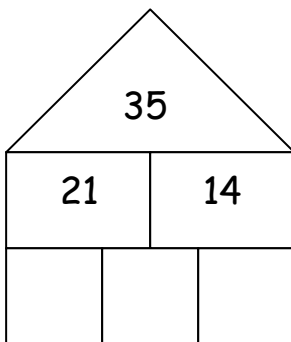
• Forscherauftrag 5a



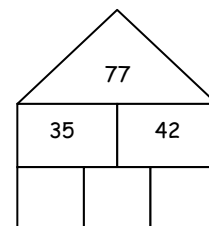
Die Zahlen **im Keller** fehlen.
Wie kannst du sie schnell finden?

a) Versuche die Zahlen im Keller zu finden.


Du kannst zuerst einmal auf einem Blatt mit leeren Häusern ausprobieren.



b) ***Erkläre möglichst genau, wie du hier die richtigen Zahlen für den Keller findest.

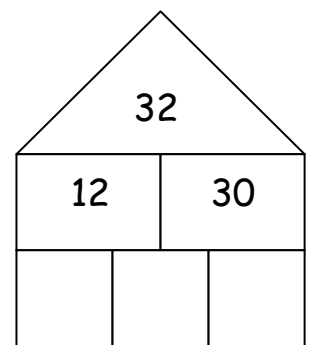
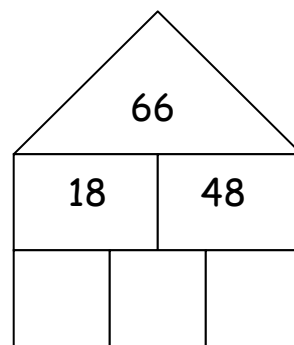
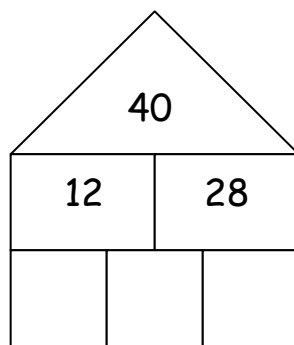
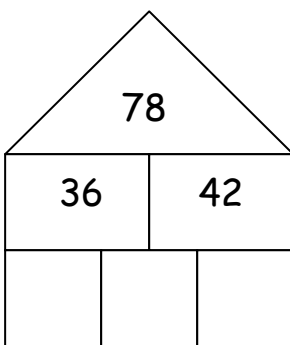


•• Forscherauftrag 5b

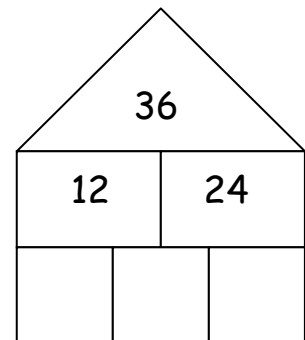
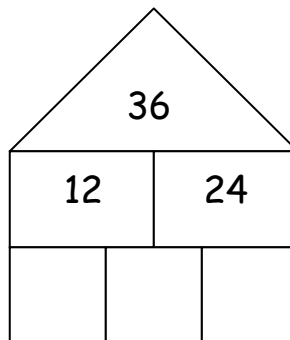
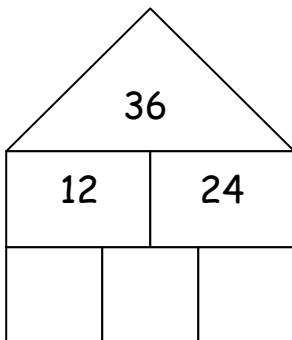


Die Zahlen **im Keller** dürfen nicht größer als 9 sein!
Achtung! Hier musst du gut überlegen!

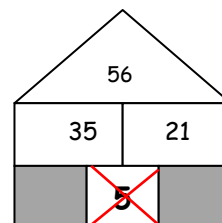
a) Versuche die Zahlen im Keller zu finden. Probiere aus.



b) Finde 3 verschiedene Möglichkeiten:



*** c) Warum kann in diesem Haus unten in der Mitte keine 5 stehen?

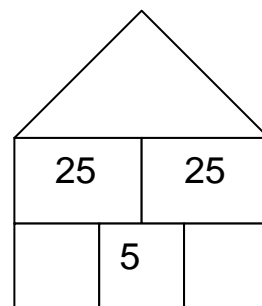
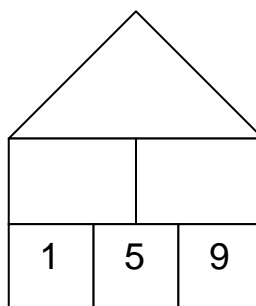
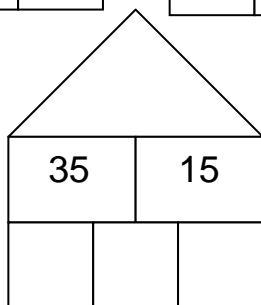
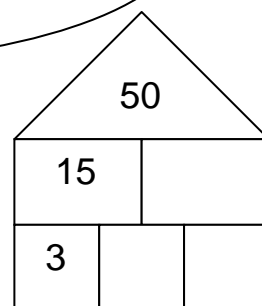
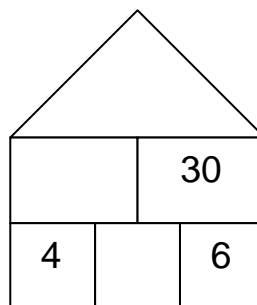
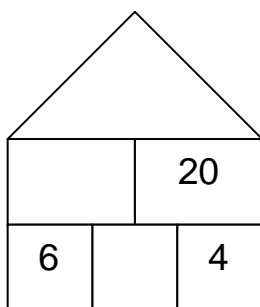
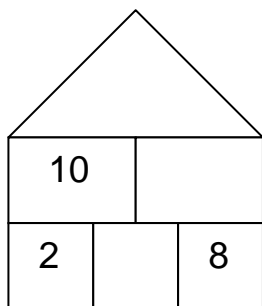


•• Forscherauftrag 9



Nanu, was ist denn mit diesen Häusern los ????????

a) Rechne die Mal-Plus-Häuser aus.



b)*** Was fällt dir bei der **Dachzahl** auf? Warum ist das so?
