

## Im Tierpark


Kurz vor den Osterferien machen die Kinder der Klasse 4b einen Ausflug in den Tierpark. Dort gibt es auch einen großen Streichelzoo, in dem viele kleinere Tiere herumtollen. Auf einem Schild an der Umzunung steht, dass sich Ziegen, Schafe und Hangebauschweine im Gehege befinden und dass es zusammen genau 24 Tiere sind. Die Kinder wollen wissen, wie viele Tiere von jeder Sorte im Streichelzoo herumtollen. Der Tierpfleger antwortet:

Es sind 5 Hangebauschweine im Streichelgehege. Ohne die Ziegen sind es 16 Tiere. Ohne die Schafe sind es 13 Tiere.

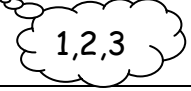
### Pikos Hilfe

Dies kann euch helfen, den Text besser zu verstehen:

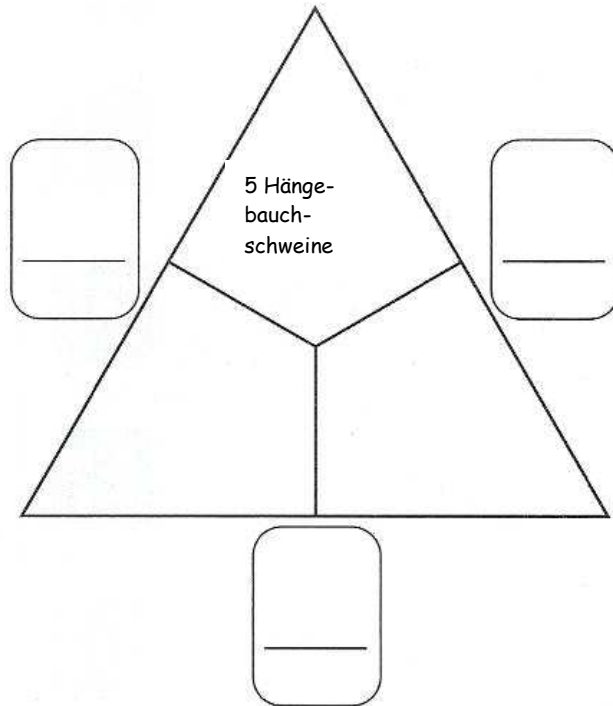

- ☺ Die Antwort finde ich im Text.
- ☹ Diese Frage kann ich nicht beantworten.



 1,2,3 Fur die Antwort muss ich rechnen

|   | ☺ | ☹ |  |
|---|---|---|---|
| Wohin fahren die Kinder der Klasse 4b?            |   |   |   |
| Wie viele Kinder sind in der Klasse 4b?           |   |   |   |
| Was steht auf dem Schild am Streichelzoo?         |   |   |   |
| Wie heit der Tierpfleger?                        |   |   |   |
| Wie viele Tiere sind im Streichelzoo?             |   |   |   |
| Wie viele Ziegen sind im Streichelzoo?            |   |   |   |
| Wie viele Schafe sind im Streichelzoo?            |   |   |   |
| Wie viele Hangebauschweine sind im Streichelzoo? |   |   |   |
| Meine Frage:                                      |   |   |   |
|   |   |   |   |

# Pikos Hilfe



5 Hänge-  
bauch-  
schweine