


Wie viele **gefüllte Becher** passen in **einen Messbecher**?

Was **vermutet** ihr? \_\_\_\_\_

**Testet** jetzt aus, wie viele gefüllte Becher in einen Messbecher passen.

Können ihr jetzt bestimmen, wie viel Milliliter Wasser in einen gefüllten Becher passen?

Das haben wir herausgefunden:




Wie viele **gefüllte Becher** passen in **einen Messbecher**?

Was **vermutet** ihr? \_\_\_\_\_

**Testet** jetzt aus, wie viele gefüllte Becher in einen Messbecher passen.

Können ihr jetzt bestimmen, wie viel Milliliter Wasser in einen gefüllten Becher passen?

Das haben wir herausgefunden:




Wie viele **gefüllte Messbecher** passen in **einen Eimer**?

Was **vermutet** ihr? \_\_\_\_\_

**Testet** jetzt aus, wie viele gefüllte Messbecher in einen Eimer passen.

Können ihr jetzt bestimmen, wie viel Liter Wasser sich in einem gefüllten Eimer befinden?

Das haben wir herausgefunden:




Wie viele **gefüllte Messbecher** passen in **einen Eimer**?

Was **vermutet** ihr? \_\_\_\_\_

**Testet** jetzt aus, wie viele gefüllte Messbecher in einen Eimer passen.

Können ihr jetzt bestimmen, wie viel Liter Wasser sich in einem gefüllten Eimer befinden?

Das haben wir herausgefunden:




Wie lange dauert es bis **ein Eimer** mit Wasser gefüllt ist?

Was **vermutet** ihr? \_\_\_\_\_

**Testet** jetzt aus, wie lange es dauert bis ein Eimer mit Wasser gefüllt ist.

Können ihr jetzt bestimmen, wie viel Wasser pro Minute aus dem Hahn läuft?

Das haben wir herausgefunden:




Wie lange dauert es bis **ein Eimer** mit Wasser gefüllt ist?

Was **vermutet** ihr? \_\_\_\_\_

**Testet** jetzt aus, wie lange es dauert bis ein Eimer mit Wasser gefüllt ist.

Können ihr jetzt bestimmen, wie viel Wasser pro Minute aus dem Hahn läuft?

Das haben wir herausgefunden:




Wie viele **gefüllte kleine Flaschen** passen in eine **große Flasche**?

Was **vermutet** ihr? \_\_\_\_\_

**Testet** jetzt aus, wie viele gefüllte kleine Flaschen in eine große Flasche passen.

Könnt ihr jetzt bestimmen, wie viel Milliliter oder Liter Wasser sich in den Flaschen befinden?

Das haben wir herausgefunden:



Wie viele **gefüllte kleine Flaschen** passen in eine **große Flasche**?

Was **vermutet** ihr? \_\_\_\_\_

**Testet** jetzt aus, wie viele gefüllte kleine Flaschen in eine große Flasche passen.

Könnt ihr jetzt bestimmen, wie viel Milliliter oder Liter Wasser sich in den Flaschen befinden?

Das haben wir herausgefunden: