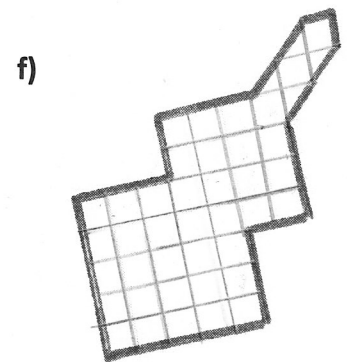
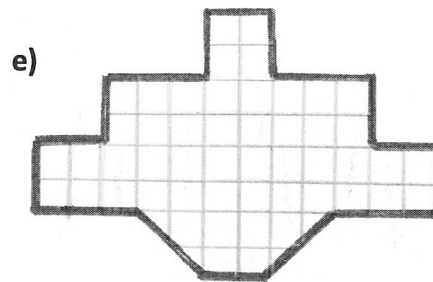
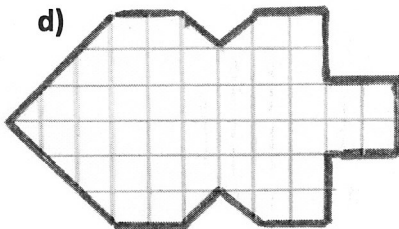
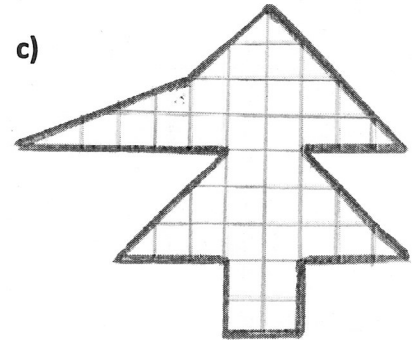
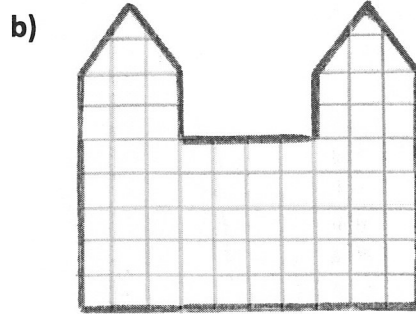
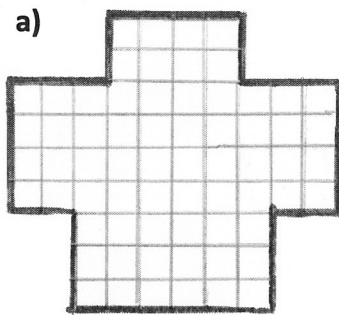


Faltschnitte erkennen



1) Welche dieser Figuren können mit einem Faltschnitt hergestellt werden? Zeichne die Symmetrieachse (die Faltkante) mit einem roten Stift ein.

2) Eine Figur kann nicht mit einem Faltschnitt hergestellt werden. Welche Figur ist es? Woran hast du das erkannt? Schreibe auf.

* **Aufgabe)** Wie muss man die Figur verändern, damit man sie doch mit einem Faltschnitt herstellen kann? Zeichne ein.