



Entdecker-Päckchen 3

Puzzle 1 und 2

- Rechne die Entdecker-Päckchen auf den beiden AB aus. Setze die Päckchen fort.
- Schneide die Satzteile auf diesem Blatt aus. Ordne die Satzeile auf den beiden AB richtig zu!
- Einen Satz musst du auf jedem AB noch zu Ende schreiben.

Die erste Zahl	Die erste Zahl
Die zweite Zahl	Die zweite Zahl
Das Ergebnis	Das Ergebnis
wird immer um 4 größer.	wird immer um 3 größer.
wird immer um 2 kleiner.	wird immer um 4 kleiner.
wird immer um 2 _____.	wird immer um 1 _____.



Entdecker-Päckchen 3 - Puzzle 1


$28 + 22 = \underline{\quad}$

$32 + 20 = \underline{\quad}$

$36 + 18 = \underline{\quad}$

$40 + 16 = \underline{\quad}$

$\underline{\quad} + \underline{\quad} = \underline{\quad}$



Entdecker-Päckchen 3 - Puzzle 2

$$30 + 28 = \underline{\quad}$$

$$33 + 24 = \underline{\quad}$$

$$36 + 20 = \underline{\quad}$$

$$39 + 16 = \underline{\quad}$$

$$\underline{\quad} + \underline{\quad} = \underline{\quad}$$

