



# Zahlen unter der Lupe bis 10

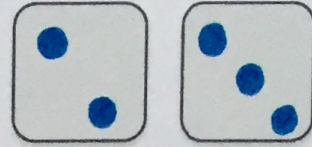
Name: Max



1) Male so viele Punkte aus.




2) Zeichne ein Würfelbild.



3) Zeige am Zahlenstrahl.



4) Lege mit Geld.



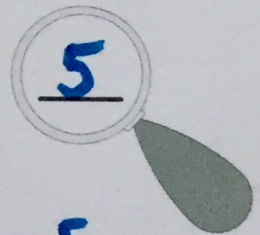
5) Male ein Zahlenbild.



6) Zerlege die Zahl.

5	0
4	1
3	2
2	3
1	4
0	5

7) Schreibe Rechenaufgaben.



$$3 + 2 = 5$$

$$2 + 1 + 1 + 1 = 5$$

$$10 - 5 = 5$$

$$8 - 3 = 5$$

$$15 - 10 = 5$$

$$10 : 2 = 5$$

