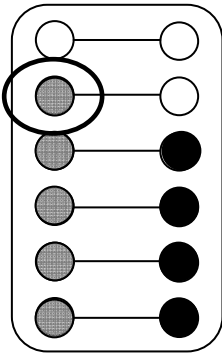





Hamstern 1

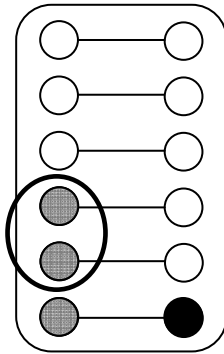


Milo Lia



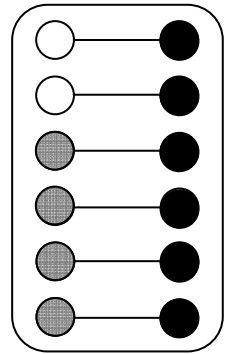
Milo hat 1 mehr.

Milo Lia



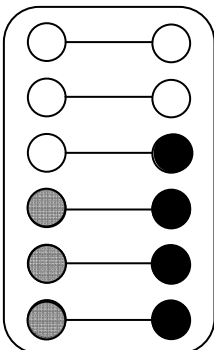
Milo hat mehr.

Milo Lia



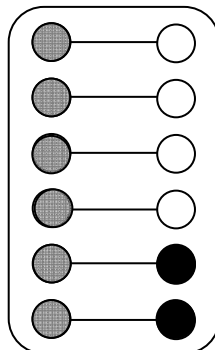
Lia hat mehr.

Milo Lia



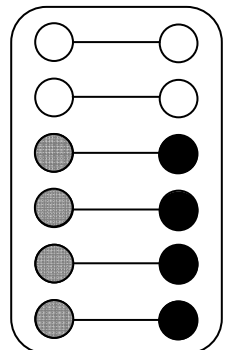
 hat mehr.

Milo Lia



 hat mehr.

Milo Lia



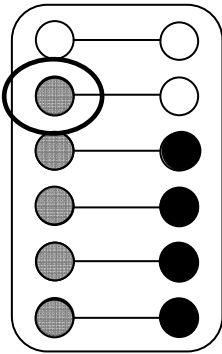
 hat mehr.



Hamstern 1*



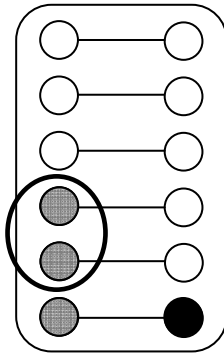
Milo Lia



Milo hat 1 mehr.

Lia hat 1 weniger.

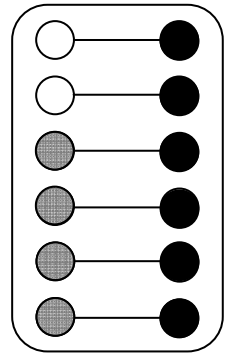
Milo Lia



Milo hat mehr.

Lia hat weniger.

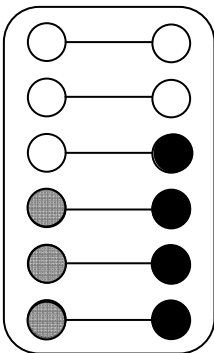
Milo Lia



Lia hat mehr.

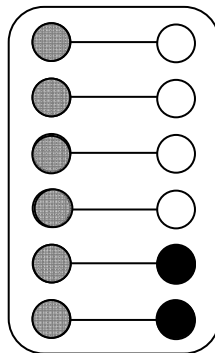
Milo hat weniger.

Milo Lia



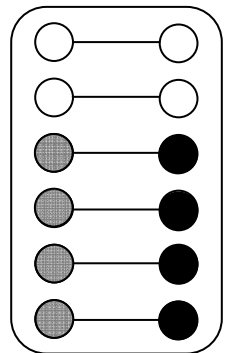
 hat mehr.

Milo Lia



 hat mehr.

Milo Lia




 hat mehr.

 hat weniger. hat weniger. hat weniger.



Hamstern 2

Zeichne die Plättchen.
Trage ein, wie viele Plättchen das Kind mehr hat.



Milo Lia



○	○
○	○
○	○
○	○
○	○
○	○

Lia hat ___ mehr.

Milo Lia



○	○
○	○
○	○
○	○
○	○
○	○

Milo hat ___ mehr.

Milo Lia



○	○
○	○
○	○
○	○
○	○
○	○

Lia hat ___ mehr.

Milo Lia



○	○
○	○
○	○
○	○
○	○
○	○

___ hat ___ mehr.

Milo Lia



○	○
○	○
○	○
○	○
○	○
○	○

___ hat ___ mehr.

Milo Lia




○	○
○	○
○	○
○	○
○	○
○	○

___ hat ___ mehr.



Hamstern 2*

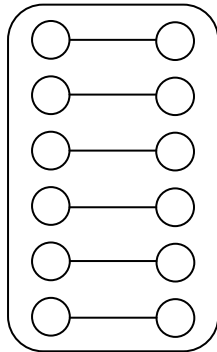


Zeichne die Plättchen.

Trage ein, wie viele Plättchen die Kinder mehr oder weniger haben.



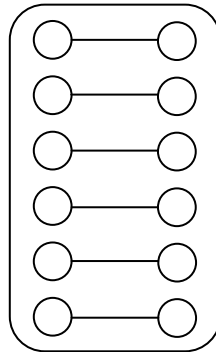
Milo Lia



Lia hat ___ mehr.

Milo hat ___ weniger.

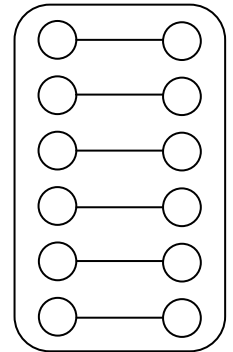
Milo Lia



Milo hat ___ mehr.

Lia hat ___ weniger.

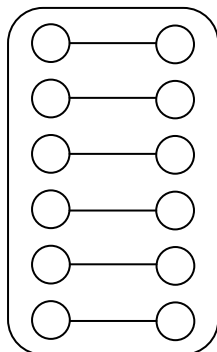
Milo Lia



Lia hat ___ mehr.

Milo hat ___ weniger.

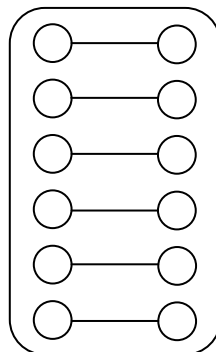
Milo Lia



___ hat ___ mehr.

___ hat ___ weniger.

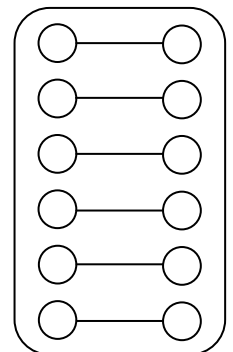
Milo Lia



___ hat ___ mehr.

___ hat ___ weniger.

Milo Lia




___ hat ___ mehr.

___ hat ___ weniger.



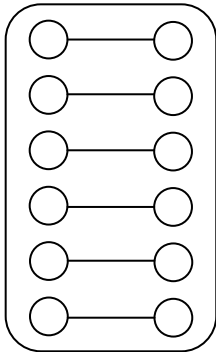
Hamstern 3



Zeichne das Würfelbild und die Plättchen.
Trage ein, wie viele Plättchen das Kind mehr hat.

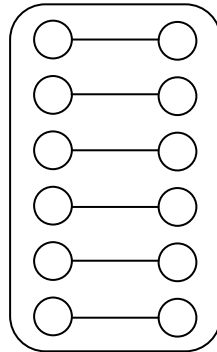


Milo Lia



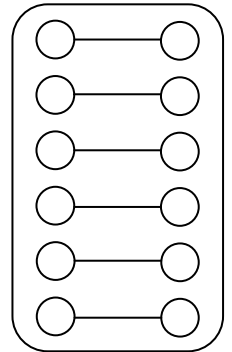
Lia hat 1 mehr.

Milo Lia



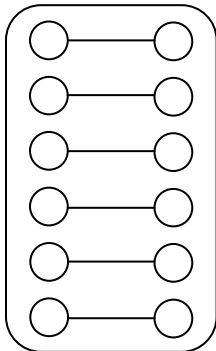
Lia hat 3 mehr.

Milo Lia



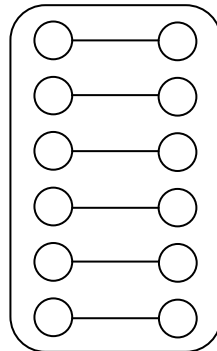
Milo hat 2 mehr.

Milo Lia



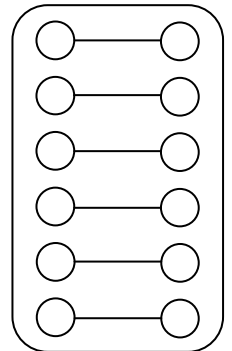
Milo hat mehr.

Milo Lia



Lia hat mehr.


Milo Lia



 hat mehr.



Hamstern 3*



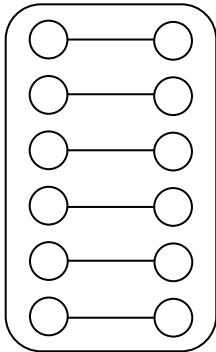
Zeichne das Würfelbild und die Plättchen.

Trage ein, wie viele Plättchen die Kinder mehr oder weniger haben.



Milo

Lia

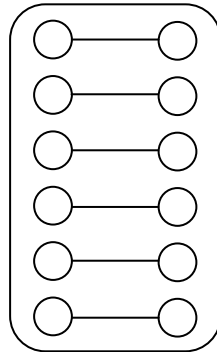


Lia hat 1 mehr.

Milo hat 1 weniger.

Milo

Lia

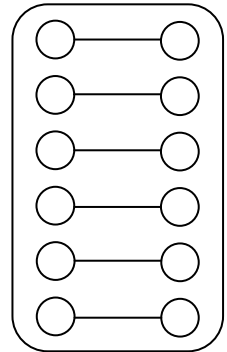


Lia hat 3 mehr.

Milo hat 3 weniger.

Milo

Lia

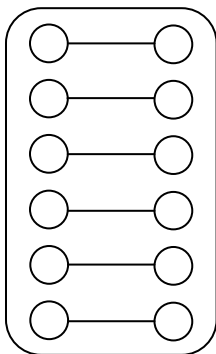


Milo hat 2 mehr.

Lia hat 2 weniger.

Milo

Lia

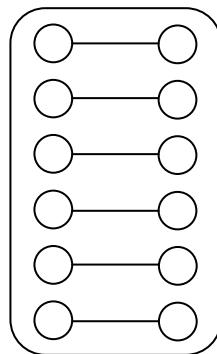


Milo hat mehr.

Lia hat weniger.

Milo

Lia

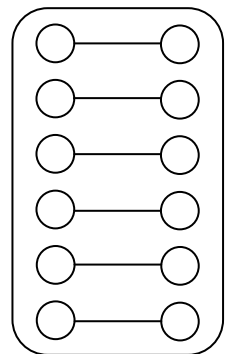


Lia hat mehr.

Milo hat weniger.

Milo

Lia



 hat mehr.

 hat weniger.