


Zahlenketten – Zielzahl 50

Name: _____

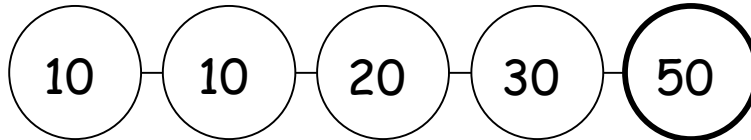
Datum: _____



Wie treffen wir die Zielzahl 50?



Wie finden wir eine Zahlenketten mit der Zielzahl 50?




○	○	○	○	○	○	○	○	○	○
○	○	○	○	○	○	○	○	○	○
○	○	○	○	○	○	○	○	○	○
○	○	○	○	○	○	○	○	○	○
○	○	○	○	○	○	○	○	○	○

Wie hast du eine Zahlenkette mit der Zielzahl 50 gefunden?
Beschreibe deine Strategie mit Mathewörtern!

Zahlenketten – Zielzahl 50

Name: _____

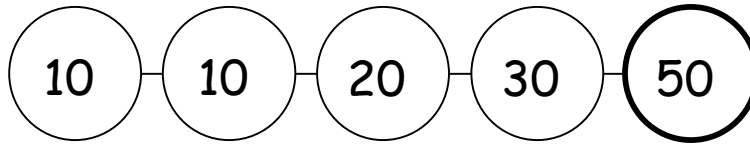
Datum: _____



Wie treffen wir die Zielzahl 50?



Wie finden wir viele verschiedene Zahlenketten mit der Zielzahl 50?



Sortiere deine Zahlenketten mit der Zielzahl 50 und klebe sie hier auf. Zeige deine Sortierstrategie mit Forschermitteln.

Beschreibe deine Sortierstrategie mit Mathewörtern.