

Zahlenketten – Wir rechnen mit gleichen Startzahlen


Name: _____

Datum: _____

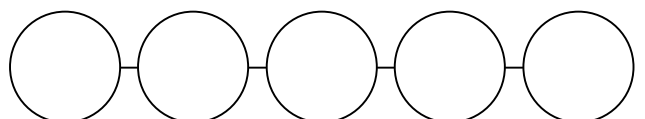
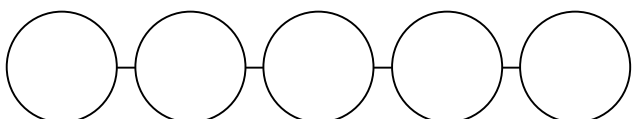
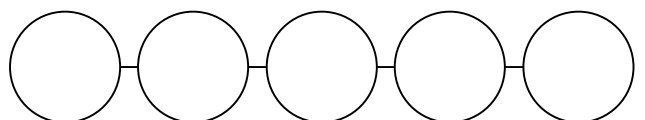
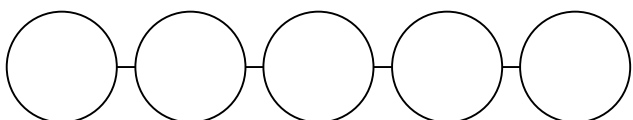
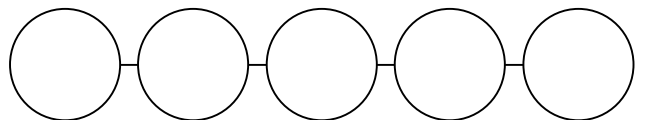
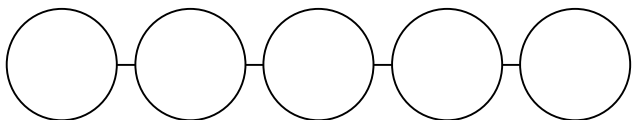
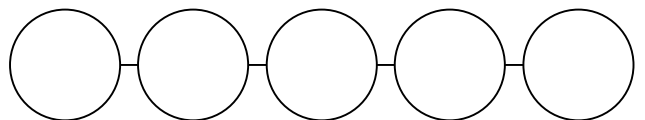
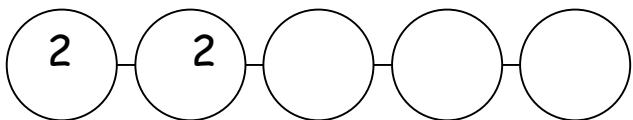
* Gleiche Startzahlen

Wähle zwei gleiche Startzahlen. Berechne die Zahlenkette.

Was passiert mit der Zielzahl?



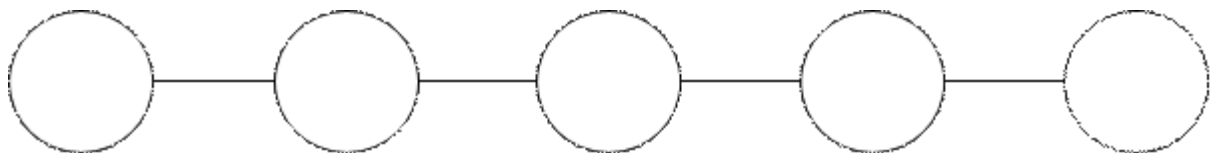
Vermute zuerst:



2. Was fällt dir auf, wenn du beide Startzahlen gleich sind?

* Begründe.

TIPP: Du kannst auch Forschermittel nutzen.



Kreuze an! Meine Vermutung war richtig falsch