

$$\underline{36 + 49 =}$$

$$36 + 40 = 76$$

$$76 + 9 = 85$$

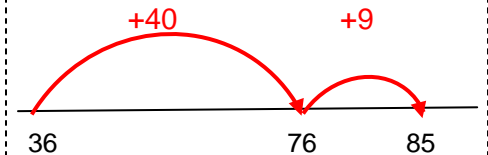

$$\underline{36 + 49 =}$$

$$30 + 40 = 70$$


$$6 + 9 = 15$$

$$70 + 15 = 85$$

Diesen Rechenweg
kann man nicht am
Rechenstrich
darstellen!



Es gehören immer 3 Karten zusammen:



- Rechenweg mit Gleichungen
- Rechenweg am Rechenstrich
- Rechenweg mit Worten beschrieben

Arbeitet zu zweit 😊😊

Schneidet die Karten aus und ordnet sie richtig zu.

Legt alle 3 Karten, die zusammengehören,
auf ein Blatt Papier und klebt sie auf.

Setzt die **passenden Zahlen** in die Lücken ein.

Zuerst rechne ich die **40** zu der dazu.

Da kommt 76 heraus.

Dann rechne ich die Einer zu der dazu.

Ich erhalte das Endergebnis .

Zuerst rechne ich die beiden glatten Zehnerzahlen zusammen.

Da kommt heraus.

Dann rechne ich die beiden Einerzahlen zusammen.

Da kommt heraus.

Zum Schluss rechne ich die beiden Zwischenergebnisse zusammen.

Ich erhalte das Endergebnis .