

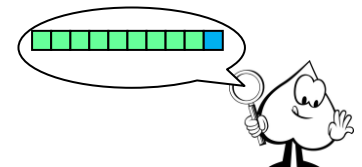
AB 3: Hundertertafel: Untersuchung der Zeilen



Name: _____

1. Zeile	1	2	3	4	5	6	7	8	9	10
2. Zeile	11	12	13	14	15	16	17	18	19	20
3. Zeile	21	22	23	24	25	26	27	28	29	30
4. Zeile	31	32	33	34	35	36	37	38	39	40
...	41	42	43	44	45	46	47	48	49	50
...	51	52	53	54	55	56	57	58	59	60
...	61	62	63	64	65	66	67	68	69	70
...	71	72	73	74	75	76	77	78	79	80
...	81	82	83	84	85	86	87	88	89	90
...	91	92	93	94	95	96	97	98	99	100

1. Nummeriere die **Zeilen** zu Ende.

2. Male die weißen Felder in der **3. Zeile** und in der **7. Zeile grün** aus.



  3. Schau dir die Zahlen in der **3. Zeile** genau an:
Wie viele **Zehner** haben die Zahlen ?

- a) Die Zahlen in den **grünen Feldern** haben alle **Zehner**.
b) Die Zahl im **blauen Feld** hat **Zehner**.

  4. Schau dir die Zahlen in der **7. Zeile** genau an:

- a) Die Zahlen in den **grünen Feldern** haben alle **Zehner**.
b) Die Zahl im **blauen Feld** hat **Zehner**.