



AB 2: Beispiele für „grundlegende sprachliche Übungen“ zur Hundertertafel



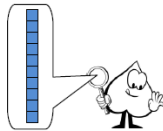
1	2	3	4	5	6	7	8	9	10
11	12	13	14	15	16	17	18	19	20
21	22	23	24	25	26	27	28	29	30
31	32	33	34	35	36	37	38	39	40
41	42	43	44	45	46	47	48	49	50
51	52	53	54	55	56	57	58	59	60
61	62	63	64	65	66	67	68	69	70
71	72	73	74	75	76	77	78	79	80
81	82	83	84	85	86	87	88	89	90
91	92	93	94	95	96	97	98	99	100

1. Nummeriere die **Spalten** zu Ende.

2. Male die **3. Spalte**, die **4. Spalte** und die **10. Spalte** **blau** aus.

3. Wie viele **Einer** haben die Zahlen in den **Spalten**?

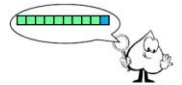
- a) Die Zahlen in der **3. Spalte** haben alle Einer.
- b) Die Zahlen in der **4. Spalte** haben alle Einer.
- c) Die Zahlen in der **10. Spalte** haben alle Einer.



1. Zeile	1	2	3	4	5	6	7	8	9	10
2. Zeile	11	12	13	14	15	16	17	18	19	20
3. Zeile	21	22	23	24	25	26	27	28	29	30
4. Zeile	31	32	33	34	35	36	37	38	39	40
...	41	42	43	44	45	46	47	48	49	50
...	51	52	53	54	55	56	57	58	59	60
...	61	62	63	64	65	66	67	68	69	70
...	71	72	73	74	75	76	77	78	79	80
...	81	82	83	84	85	86	87	88	89	90
...	91	92	93	94	95	96	97	98	99	100

1. Nummeriere die **Zeilen** zu Ende.

2. Male die **weißen** Felder in der **3. Zeile** und in der **7. Zeile** **grün** aus.



3. Schau dir die Zahlen in der **3. Zeile** genau an:
Wie viele **Zehner** haben die Zahlen?

- a) Die Zahlen in den **grünen Feldern** haben alle Zehner.
- b) Die Zahl im **blauen Feld** hat Zehner.

4. Schau dir die Zahlen in der **7. Zeile** genau an:

- a) Die Zahlen in den **grünen Feldern** haben alle Zehner.
- b) Die Zahl im **blauen Feld** hat Zehner.



Name: _____

links von / zwischen / rechts von

Vervollständige die Sätze.



- | | |
|----|----|
| 36 | 37 |
|----|----|

 Die 36 steht **links von** der _____.
- | | |
|--|----|
| | 36 |
|--|----|

 Die 36 steht **rechts von** der _____.
- | | | |
|----|----|--|
| 35 | 36 | |
|----|----|--|

 Die 36 steht **zwischen** der 35 und der _____.
- | | |
|----|--|
| 62 | |
|----|--|

 Die ____ steht _____ der _____.
- | | |
|--|----|
| | 62 |
|--|----|

 Die ____ steht _____ der _____.
- | | | |
|--|----|--|
| | 62 | |
|--|----|--|

 Die 62 steht _____ der _____ und der _____.
- | | |
|--|----|
| | 79 |
|--|----|


 _____.



Name: _____

unter / über

Vervollständige die Sätze.



- | |
|----|
| 26 |
| 36 |
| 46 |

 Die 36 steht **unter** der _____.
 Die 36 steht **über** der _____.
- | |
|----|
| |
| 53 |
| |

 Die 53 steht _____ der _____.
 Die 53 _____ der _____.

rechts von / links von unter / über

- | | | |
|--|----|--|
| | 44 | |
| | | |

 Die 44 steht **rechts von** der _____.
 Die 44 steht _____.
 Die 44 _____.
 Die 44 _____.



AB 2: Beispiele für „grundlegende sprachliche Übungen“ zur Hundertertafel

AB 4: Untersuchung von Zeile und Spalte (allgemein)



Wo stehen welche Zahlen?



Schreibe die Sätze zu Ende und denke dir selbst noch passende Sätze aus.

In der **dritten Spalte** stehen **immer** nur Zahlen mit **3 Einern**.

In der **zehnten Spalte** stehen **immer** nur _____.

In der _____

In der **sechsten Zeile** stehen **fast immer** nur Zahlen mit **5 Zehnern**.

In der **achten Zeile** _____

AB 4: Untersuchung von Zeile und Spalte (allgemein)



Welche Zahlen stehen wo?



Schreibe die Sätze zu Ende und denke dir selbst noch passende Sätze aus.

Alle Zahlen mit **3 Einern** stehen in der **dritten Spalte**.

Alle Zahlen mit **0 Einern** stehen _____.

Alle Zahlen _____

Fast alle Zahlen mit **5 Zehnern** stehen in der **sechsten Zeile**.

Fast alle Zahlen mit **8 Zehnern** stehen _____

Die 7 steht	in der neunten Zeile	und in der zehnten Spalte .
Die 27 steht	in der dritten Zeile	und in der neunten Spalte .
Die 30 steht	in der vierten Zeile	und in der vierten Spalte .
Die 31 steht	in der ersten Zeile	und in der fünften Spalte .
Die 84 steht	in der dritten Zeile	und in der ersten Spalte .
Die 65 steht	in der fünften Zeile	und in der siebten Spalte .
Die 49 steht	in der siebten Zeile	und in der siebten Spalte .

Name: _____

Die Zeile verläuft _____

Die Spalte verläuft _____

Die Diagonale _____

Die Diagonale _____

von oben nach unten von links oben nach rechts unten

von rechts oben nach links unten von links nach rechts