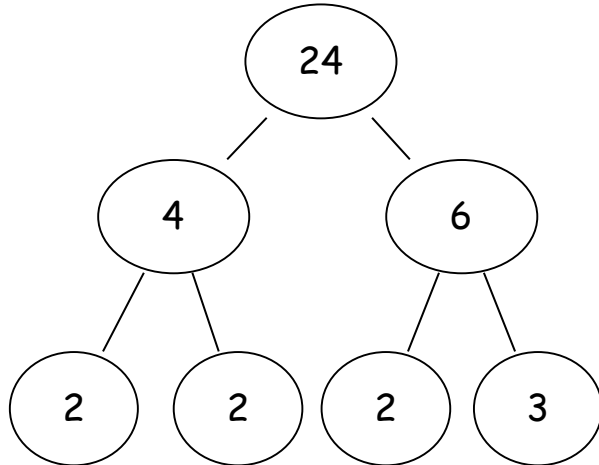



Forscherauftrag

Piko hat einen Zerlegungsbaum mit der Startzahl 24 gefunden:



Das ist nicht der
einzige
Zerlegungsbaum mit
der Startzahl 24. Es
gibt noch weitere.



Finde möglichst viele verschiedene Zerlegungsbäume mit der Startzahl 24.
Zeichne jeden Zerlegungsbaum auf eine Karte.


Wie gehst du vor? Erkläre dein Vorgehen einem anderen Kind.

Sortiert eure Zerlegungsbäume.

Wie könnt ihr den anderen Kindern zeigen, dass ihr alle Zerlegungsbäume gefunden habt?

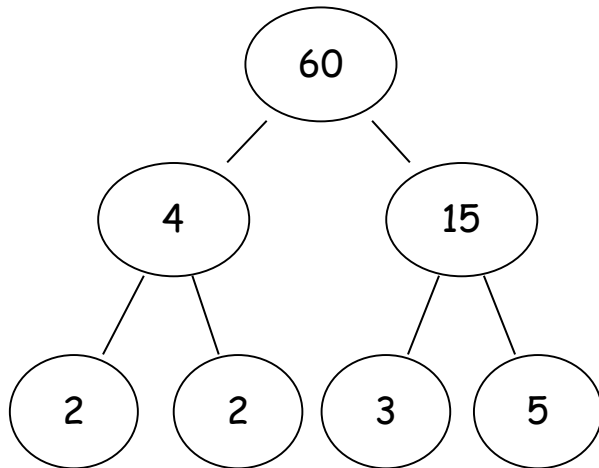






Forscherauftrag

Piko hat einen Zerlegungsbaum mit der Startzahl 60 gefunden:



Das ist nicht der
einzigste
Zerlegungsbaum mit
der Startzahl 60. Es
gibt noch weitere.



Finde möglichst viele verschiedene Zerlegungsbäume mit der Startzahl 60.
Zeichne jeden Zerlegungsbaum auf eine Karte.

Wie gehst du vor? Erkläre dein Vorgehen einem anderen Kind.

Sortiert eure Zerlegungsbäume.

Wie könnt ihr den anderen Kindern zeigen, dass ihr alle Zerlegungsbäume gefunden habt?

