
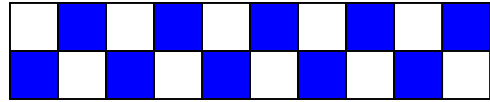
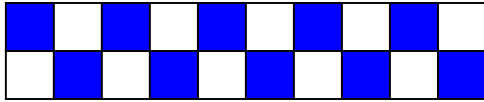



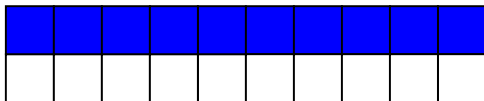

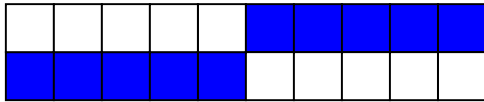
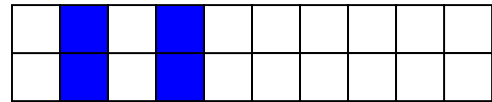
# Muster-Paare



Diese beiden Muster gehören zusammen - sie sind ein Muster-Paar.  
Kannst du das erklären?



1. Hier ist immer ein Muster eingezeichnet.  
Färbe das 2. Zwanzigerfeld so, dass ein Muster-Paar entsteht.



2. Schau dir noch einmal deine gefundenen Muster an!  
Kannst du eigene Muster-Paare zeichnen?

