



Besondere Plusaufgaben

Die Additionsaufgaben auf diesem Arbeitsblatt sind immer aus aufeinander folgenden Zahlen gebildet:

1) Rechne die Aufgaben aus!

$$17+18+19= \underline{\quad}$$


$$41+42= \underline{\quad}$$

$$8+9+10+11= \underline{\quad}$$


$$11+12+13+14+15= \underline{\quad}$$

2)


a) Finde eine passende Aufgabe zu den Punktbildern und rechne sie aus!




b) Zeichne zu jedem Punktbild noch eine weitere Reihe, schreibe die Aufgabe auf und rechne sie aus!



Erfinde ein eigenes Punktbild!



3) Rechne die Päckchen aus und finde zu jedem Päckchen noch zwei weitere Aufgaben! Schau dir die Aufgaben und die Ergebnisse an. Fällt dir etwas auf? Kannst du es erklären?



a) $3+4+5+6=$ _____

$4+5+6+7=$ _____

$5+6+7+8=$ _____

b) $11+12=$ _____

$11+12+13=$ _____

$11+12+13+14=$ _____

Das fällt mir auf:

a)

b)

Erklärung:

a)

b)

5) Erfinde selbst Additionsaufgaben mit Reihenfolgezahlen!