



So sehen die Punktbilder aus

$$2 + 3 + 4 = 9$$




$$3 \cdot 3 = 9$$



Forscherauftrag 4

Tip 1



Tipkarte am äußeren Rand ausschneiden, an der mittleren Linie falten und kleben.