


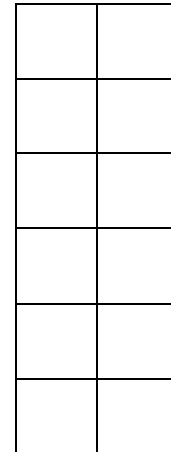
 Schreibe die Plusaufgaben.
Zeichne und schreibe noch zwei weitere Aufgaben.



1 + 2





Rechne die Plusaufgaben zu den Punktbildern aus Aufgabe 1 aus.

Beschreibe:
Was fällt dir an den Ergebnissen auf?

1 + 2 = _____


2 + ___ = _____

3 + ___ = _____

__ + ___ = _____

__ + ___ = _____

Begründe: Warum ist das so?



a) Welche Plusaufgaben mit **zwei Nachbarzahlen** gehören zu diesen Ergebnissen?

6 + ___ = 13

___ + ___ = 17

___ + ___ = 21

b) Zu der Zahl 14 kann man keine Plusaufgabe mit 2 Nachbarzahlen finden. Kannst du das erklären?

