


Mal-Aufgaben und Geteilt-Aufgaben am Punktebild




Finde zu jedem Punktebild eine **Mal-Aufgabe** und eine **Geteilt-Aufgabe**.




Mal-Aufgabe

Geteilt-Aufgabe




Mal-Aufgabe

Geteilt-Aufgabe




Mal-Aufgabe

Geteilt-Aufgabe




Mal-Aufgabe

Geteilt-Aufgabe



Mal-Aufgabe

Geteilt-Aufgabe



Mal-Aufgabe

Geteilt-Aufgabe
