



Plus- und Minus-Rechengeschichten



Emily

Anna hat 25 Murmeln. Fabian hat 8 Murmeln.
Wie viele Murmeln haben die beiden zusammen ?

Wie viele Murmeln
haben die beiden
zusammen ?

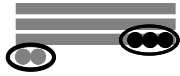
Hier erkenne ich
eine **Plus-Aufgabe**.



Leonie



Erkläre, wie Leonie zur Aufgabe findet. Nenne die passende Aufgabe.

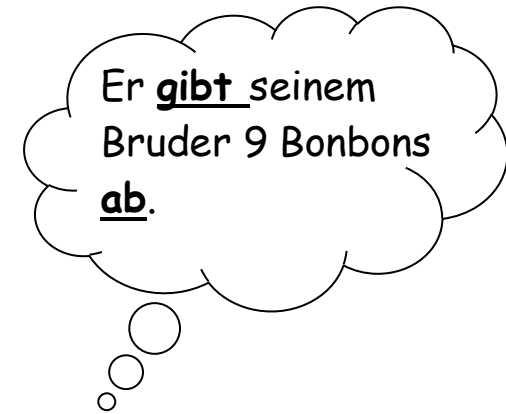


Plus- und Minus-Rechengeschichten



Emily

Tim hat 28 Bonbons.
Er gibt seinem Bruder 9 Bonbons ab.
Wie viele Bonbons hat Tim noch ?



Er gibt seinem
Bruder 9 Bonbons
ab.

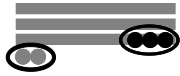
Hier erkenne ich
eine **Minus-Aufgabe**.



Leonie



Erkläre, wie Leonie zur Aufgabe findet. Nenne die passende Aufgabe.



Plus- und Minus-Rechengeschichten



Emily

Ein Pilot transportiert mit seinem Flugzeug
36 wertvolle Vasen.
In einem Sturm zerbrechen 7 Vasen.
Wie alt ist der Pilot ?

In einem Sturm
zerbrechen 7 Vasen

-> minus ?

Die Vasen haben aber
nichts mit dem Alter
zu tun !

Hier kann man **keine**
sinnvolle Aufgabe finden.



Leonie



Erkläre, wie Leonie zur Aufgabe findet. Nenne die passende Aufgabe.