


WORTSPEICHER

So kannst du Zahlen darstellen:

85

Die Zahl 85 als
Zahl.



Die Zahl 85 als
Bild.

H	Z	E
	8	5

Die Zahl 85 in der
Stellentafel.

$80 + 5$

Die Zahl 85 als
Aufgabe.



Zahlen verschieden darstellen




Leonie



das Bild

H	Z	E
	3	5



Rico

die Stellentafel




Maurice

$$30 + 5$$

die Aufgabe



die Zahl



Tara



Die Kinder stellen die Zahl 35 unterschiedlich dar.
Beschreibe, wie sie das tun.