

Das kann ich schon im Zahlenraum bis 20

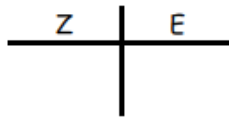
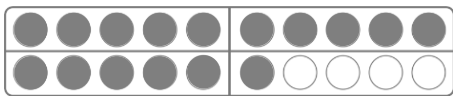
Name: _____

1. Schreibe die Zahlen, die du hörst.

_____ , _____ , _____ , _____



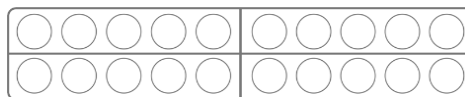
2. Welche Zahl ist hier als Zahlbild gezeichnet? Schreibe die Zahl.



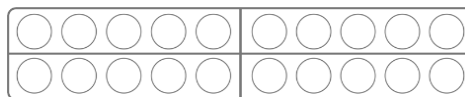


3. Zeichne die Zahlbilder.

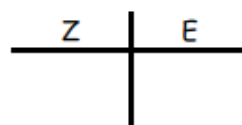

7



19



4. Wie viele Plättchen siehst du? Kreise als Hilfe 10 Plättchen ein. Schreibe die passende Zahl auf.





5. Zerlege in Zehner und Einer.

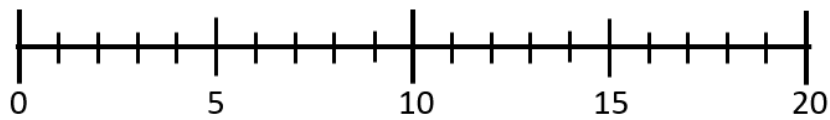
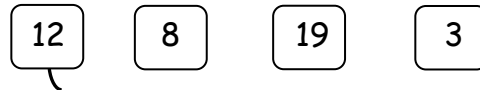
$$11 = \underline{\quad} + \underline{\quad}$$

$$14 = \underline{\quad} + \underline{\quad}$$

$$17 = \underline{\quad} + \underline{\quad}$$



6. Verbinde die Zahlen mit dem Zahlenstrahl.



7. Schreibe die Zahlen der Größe nach auf.

7 4 13 19 11



--	--	--	--	--



8. Schreibe die Nachbarzahlen auf (Vorgänger und Nachfolger).

	14	
--	----	--

	17	
--	----	--

	21	
--	----	--



9. Zähle in Schritten.

