



Name: _____

Datum: _____

Entdecker-Päckchen

Wenn du mehr Platz brauchst,
nutze das Zusatzpapier!



1. Rechne aus. Setze fort. 

$35 + 13 = \underline{\quad}$

$34 + 14 = \underline{\quad}$

$33 + 15 = \underline{\quad}$


$32 + \underline{\quad} = \underline{\quad}$

$\underline{\quad} + \underline{\quad} = \underline{\quad}$

$\underline{\quad} + \underline{\quad} = \underline{\quad}$

Beschreibe. Was fällt dir auf?

* Begründe. Warum ist das so?

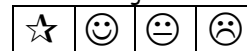



Denke an die
Forschermittel.

Deine Einschätzung:



Einschätzung Lehrer/in:



2. Rechne aus. Setze fort. 

$60 - 27 = \underline{\quad}$

$61 - 29 = \underline{\quad}$

$62 - 31 = \underline{\quad}$

$63 - \underline{\quad} = \underline{\quad}$

$\underline{\quad} - \underline{\quad} = \underline{\quad}$


$\underline{\quad} - \underline{\quad} = \underline{\quad}$

Beschreibe. Was fällt dir auf?


* Begründe. Warum ist das so?



Deine Einschätzung:



Einschätzung Lehrer/in:



4. Hier ist ein Fehler im Muster.

Berichtige ihn und mache aus dem Päckchen ein Entdecker-Päckchen.

* Erkläre, woran du den Fehler erkannt hast.



$$45 - 23 = 22$$

$$47 - 25 = 22$$


$$49 - 27 = 22$$

$$51 - 30 = 21$$

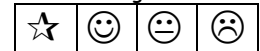
$$53 - 31 = 22$$

$$55 - 33 = 22$$

Deine Einschätzung:



Einschätzung Lehrer/in:



3.  Erfinde ein Plus-Entdecker- und ein Minus-Entdecker-Päckchen:



* Suche eines deiner Päckchen aus. Kreuze es an.

Beschreibe, was man an diesem Päckchen entdecken kann.



Deine Einschätzung:



Einschätzung Lehrer/in:

